



الصف الرابع الابتدائي

" المحتويات "

	الوحدة الأولى : بلدنا ورموزه الوطنية.
4	الدرس الأول : أدوات تحديد المواقع.....
9	الدرس الثاني : المصادر الاولية والمصادر الثانوية.....
15	الدرس الثالث : موقع مصر بالنسبة الي العالم.....
20	الدرس الرابع : محافظات مصر.....
25	الدرس الخامس : رموز بلدي.....
32	اختبار (1)
33	مراجعة عامة على الوحدة الأولى.....
39	أطلس لأهم خرائط الوحدة الاولي.....
	الوحدة الثانية : المظاهر الطبيعية في بلدنا.
45	الدرس الأول: جمال أرضنا.....
52	الدرس الثاني: الطقس والمناخ
58	الدرس الثالث: البيئات المصرية ومواردها الطبيعية
63	الدرس الرابع: نحو حياة مستدامة في بلدنا
74	شخصيات مصرية مؤثرة: جمال حمدان – سيد درويش.....
77	اختبار (2)
78	مراجعة عامة على الوحدة الثانية
83	أطلس لأهم خرائط الوحدة الثانية.....
	الوحدة الثالثة : الموارد والخدمات في بلدنا.
85	الدرس الأول: الحرف التراثية.....
90	الدرس الثاني: المستثمر الصغير.....
93	الدرس الثالث: معاً لحياة أفضل !.....
97	الدرس الرابع: حقوق الأطفال.....

- 103..... شخصيات مصرية مؤثرة : طه حسين ومحمد طلعت حرب باشا
- 106 اختبار (3)
- 107 مراجعة عامة علي الوحدة الثالثة
- 109 أطلس لأهم خرائط الوحدة الثالثة
- 110 نماذج عامة علي المنهج



الوحدة الأولى

الدرس الأول

أدوات تحديد المواقع

لمعرفة الأماكن من حولنا مثل الأماكن السياحية فإننا نستخدم مجموعة من الأدوات التي تساعدنا في ذلك مثل:-

أولاً: الخريطة

ماذا يقصد بالخريطة؟



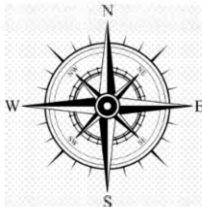
هي رسم توضيحي لسطح الأرض
أو جزء منه باستخدام مجموعه من
الرموز والألوان ومقياس رسم
محدد.

من العناصر الأساسية للخريطة:-

أحداثيات
الخريطةمقياس
الرسموردة
البوصلةمفتاح
الخريطةعنوان
الخريطة

عنوان الخريطة: يشير الى المعلومات الواردة على الخريطة.











ورده البوصلة: توضح الاتجاهات الأصلية والاتجاهات الفرعية و تساعدنا في تحديد موقع معين على الخريطة بالنسبة الى المواقع الأخرى.
تتكون ورده البوصلة من :-



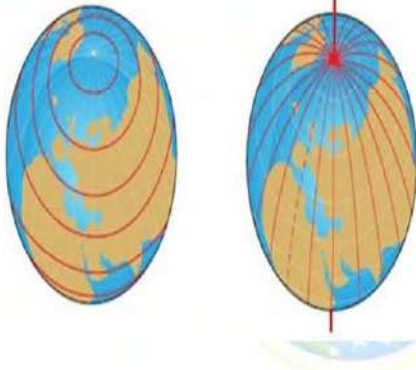
مقياس الرسم: هو النسبة بين المسافة على الخريطة وما يقابلها على الطبيعة.



مفتاح الخريطة: يوضح مدلول ومعنى الالوان والرموز الموجودة على الخريطة.

الوان	رسوم	أشكال هندسية
  	  	   

شبكة خطوط الطول ودوائر العرض: تستخدم في تحديد موقع المكان بالنسبة الي خطوط الطول ودوائر العرض.



دوائر العرض

تتخذ شكل أفقياً لتحديد
الموقع شمال دائرة
الاستواء وجنوبها.

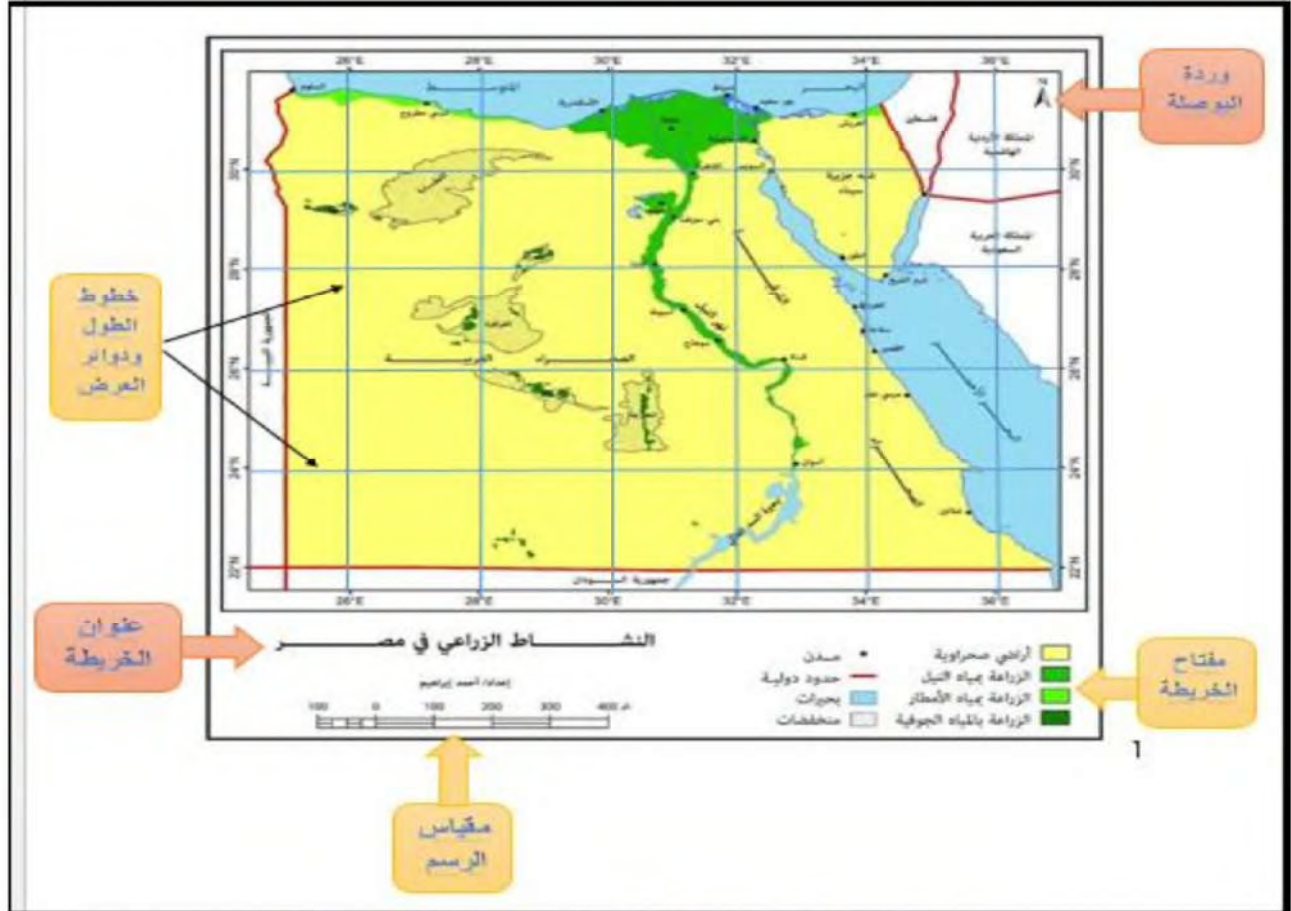
خطوط الطول

تتخذ شكل رأسياً لتحديد
الموقع شرق خط الطول
الرئيسي (خط جرينتش)
وغربه.

فكر واجب :-

اختر الاجابة الصحيحة مما بين الاقواس :-

- 1) رسم توضيحي لسطح الارض او جزء منه.
(الخريطة - الصورة - مقياس الرسم - عنوان الخريطة)
- 2) دائرة العرض الرئيسية هي دائرة.....
(الاستواء - جرينتش - الشمالية - الجنوبية)



ما اهمية الخريطة في حياتنا ؟؟

تستخدم الخريطة للتعرف على الاماكن المختلفة ومواقعها فمثلا :-

- (1) يستخدمها **الفلاح** في تحديد ملكيه الارض الزراعية.
- (2) **الجيش** في تحديد المواقع الحربية.
- (3) **السائح** للوصول الى الاماكن السياحية والأثرية.
- (4) **الطيار و قبطان** السفينة لتحديد المواقع.
- (5) **التلميذ** في مذاكرة دروسه.

فكر واجب :

(اختر...)

- (1) يستخدم الخريطة في تحديد المواقع الحربية.
(الفلاح – السائح – الضابط – الطالب)

ثانياً: الصورة

بالإضافة الى الخرائط تستخدم الصور في تحديد مواقع الاماكن ويوجد منها نوعان:

الصورة الجوية:



يتم التقاطها من مكان مرتفع من الجو باستخدام الطائرات ويعطينا التصوير الجوي صورته حقيقيه لسطح الارض ومعالمها ويساعد في رسم خرائط اكثر تفصيلا ودقه.

الصورة الفضائية:



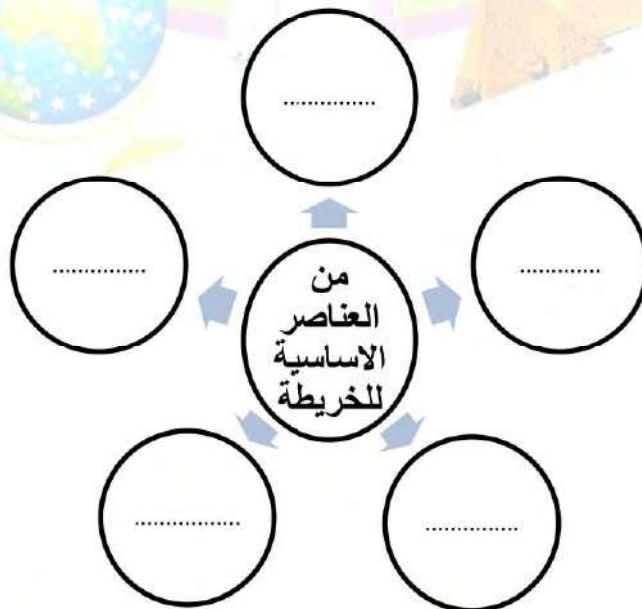
يتم التقاطها باستخدام الاقمار الصناعية لذلك تظهر سطح الارض من اعلى وتتميز الاقمار الصناعية بقدرتها على الدوران حول الارض لذلك تستطيع التقاط عدد اكبر من المواقع اكثر من الصور الجوية.

فكر واجب...

اكمل...

1) يتم التقاط الصور الفضائية باستخدام

" نشاط (1) "



" فكر وأجب "**اختر الاجابة الصحيحة مما بين الاقواس:-**

- (1) من الادوات التي تستخدم في تحديد المواقع
(الخرائط – الصور الفضائية – الصورة الجوية – كل ما سبق)
- (2) من عناصر الخريطة
(البحر – مقياس الرسم – الصحراء - نهر النيل)

ما النتائج المترتبة على...؟

(1) وجود ورده البوصلة في الخريطة؟

" الواجب المنزلى "**اختر الاجابة الصحيحة مما بين الاقواس:-**

- (1) مدلول الالوان علي الخريطة يوجد في.....
(عنوان الخريطة – مقياس الرسم – مفتاح الخريطة – شبكة الإحداثيات)
- (2) الخطوط التي تتخذ شكلاً طويلاً علي الخريطة تسمى.....
(الرموز والالوان – دوائر العرض – شبكة الإحداثيات – خطوط الطول)

ضع كلمة (صواب) امام العبارة الصحيحة، وكلمة (خطأ) امام العبارة الغير صحيحة:-

- (1) يطلق علي خطوط الطول ودوائر العرض شبكة الاحداثيات. ()
- (2) اتجاه الشمال الشرقي من الاتجاهات الاصلية. ()
- (3) يشير عنوان الخريطة الي المعلومات الواردة علي الخريطة. ()

أكتب ماتشير الية كل عبارة

- (1) يشير الي المعلومات الواردة علي الخريطة ()
- (2) توضح الاتجاهات الأصلية والاتجاهات الفرعية ()
- (3) النسبة بين المسافة علي الخريطة وما يقابلها علي الطبيعة ()
- (4) يوضح مدلول ومعنى الالوان والرموز الموجودة علي الخريطة ()
- (5) يتم التقاطها من مكان مرتفع من الجو باستخدام الطائرات ()
- (6) يتم التقاطها باستخدام الاقمار الصناعية ()
- (7) رسم توضيحي لسطح الارض او جزء منه باستخدام مجموعه من الرموز والالوان ومقياس رسم محدد. ()

المصادر الأولية و المصادر الثانوية

الدرس الثاني

(قناة السويس " شريان الاقتصاد العالمي ")

بداية الفكرة :-

كانت حلما راود الكثير من الحكام ففي عهد سنوسرت الثالث تم حفر قناة تربط بين البحرين الاحمر والمتوسط عن طريق نهر النيل (قناة سيزوستريس)

حفر وافتتاح القناة :-

- أهم ممر ملاحى عالمى يربط بين البحرين الأحمر والمتوسط. بفضل قناة السويس احتلت مصر دورا رئيسيا في التجارة الدولية وازداد هذا الدور أهمية بعد حفر قناة السويس الجديدة عام ٢٠١٥م.
- حفرت قناة السويس بسواعد المصريين تحت إشراف مهندسين فرنسيين.
- تم افتتاح قناة السويس للملاحة عام ١٨٦٩م، في حفل أسطوري دعي إليه ملوك العالم.

قناة السويس الجديدة 2015م :-

تم انشاء قناة جديدة موازية لتسيير السفن في الاتجاهين دون توقف مما قلل من زمن عبور السفن وتم افتتاحها عام 2015.

تعلم ان ...

بم تفسر...؟

اهمية قناة السويس.

أهم ممر ملاحى عالمى يربط بين البحرين الأحمر والمتوسط و بفضل قناة السويس احتلت مصر دورا رئيسيا في التجارة الدولية.

فكر واجب...

اختر الإجابة الصحيحة مما بين القوسين :-

- (1) خطاب الرئيس السادات عن اعادة افتتاح قناة السويس مصدر
(أولي - ثانوي - رأي - اعلامي)
- (2) كل ما يلي من المصادر الثانوية ماعدا.....
(الكتب - المقالات - الصور - الأبحاث)

(المصادر الأولية والمصادر الثانوية)

- عندما تريد معرفة معلومات عن حدث ما فانك ستسأل من أين يمكن الحصول علي هذه المعلومات ؟ وكيفية التأكد من صحتها

والحصول علي المعلومات يتم عن طريق مصادر المعلومات الأولية والثانوية

المصادر الثانوية	المصادر الأولية	
هي كل ما تم تدوينه بعد مرور زمن طويل من وقوع الحدث وتعتمد في كتابتها على المصادر الأولية	كل ما تم نقشه أو تدوينه من أشخاص عاصرت الحدث أو شاركوا فيه ويرتبط بزمن وقوع الحدث.	تعريفها
✓ مصادر لتوثيق المعلومات والاحداث. ✓ متوفرة و يسهل الحصول عليها عكس المصادر الأولية	✓ مصادر لتوثيق المعلومات والاحداث. ✓ اكثر دقة لأنها معاصره للاحداث.	مميزاتها
* المقالات * الكتب * الموسوعات * الأبحاث	* الوثائق الرسمية * النقوش (المعابد) * الأفلام التسجيلية * البرديات * كتابات المؤرخين القدماء * الصور	أمثلتها

من أمثلة المصادر الأولية



النقوش



الجرائد القومية



الصور



البرديات

من أمثلة المصادر الثانوية

بحث
عن عصر
بناه الاهرام

الابحاث



الكتب



الموسوعات

تعلم ان...

أكمل ...

- 1) تعد البرديات من المصادر الاولية للمعلومات.
- 2) من المصادر الثانوية للمعلومات الكتب و الابحاث.

فكر واجب...

اختر الاجابة الصحيحة مما بين الاقواس:-

- 1) من المصادر الاولية للمعلومات.....
(الصور - النقوش - البرديات - كل ما سبق)
- 2) من المصادر الثانوية للمعلومات.....
(الابحاث - كتابات المؤرخين القدماء - المعابد - كل ما سبق)



الفرق بين الحقيقة والرأي

هي معلومات او احداث تم اثبات صحتها والتأكد من دقتها من خلال البحث والتجريب و تتسم بالدقة و الموضوعية و نادرا ما تكون غير صحيحة	الحقيقة
هو تعبير عما يشعر به او يفكر فيه شخص ما تجاه موضوع معين وقد يكون صحيحا او خطأ لذلك لا يجب التسرع في الاخذ الا بعد التأكد منها.	الرأي

تقييم مصادر المعلومات:-

عندما نقرأ نصا ما لا بد أن نتحرى الدقة للحكم على مدى صحة المعلومات الواردة فيه، وذلك من خلال معرفة من كتبها ويمكن أن نقيم مصدر المعلومة من خلال الخطوات التالية :-

(1) معلومات عن المؤلف

- اسم المؤلف وتخصصه ومكانته العلمية.
- هل المؤلف شارك في الحدث او عاصر وقت حدوثه ؟
- ما هدف المؤلف من هذا النص .. ؟

(2) تقييم النص

- هدف المؤلف من النص : تزويدك بالمعلومات ومحاولة إقناعك بفكرة ما
- ويساعدك ذلك على أن تميز بين الحقائق والآراء التي يتضمنها النص
- عليك أن تقارن المعلومات الواردة في المصدر لمصادر أخرى تؤكد صحة المعلومة

ومن الخطوات السابقة ستمكن من التمييز بين الحقائق والآراء والتأكد من صحة المعلومات، احرص على عدم نقل أي معلومات دون التأكد من صحتها .



- 1- كيف يمكنك الحكم على أن ما كتبه المؤلف يمثل حقيقة أم رأيا ؟
إذا ذكر المؤلف معلومات أو أحداثا صحيحة ودقيقة، فهذا يكون حقيقة.
أما إذا عبر عما يشعر به او يفكر فيه فهذا يسمى رأيا .
- 2- ما خطورة نشر معلومات غير صحيحة على وسائل التواصل الاجتماعي؟
يؤثر ذلك على استقرار وأمن المجتمع .

تعلم ان...

اقرأ المعلومات التالية وحدد ما اذا كانت كل جملة تعبر عن حقيقه (ح) او رأي (ر) :-

- (ر) 1) مدينة الغردقة هي اجمل مدينة في مصر.
 (ح) 2) بلغ عدد سكان الغردقة 190592 نسمة وفقاً لتعداد 2017م.
 (ر) 3) الهرم الاكبر هو المعلم الاثري السياحي الاهم في مصر.

فكر واجب...

اقرأ المعلومات التالية وحدد ما اذا كانت كل جملة تعبر عن حقيقه (ح) او رأي (ر) :-

- () ١) بلغ ارتفاع الهرم الاكبر وقت تشييده 147 متر.
 () ٢) هذه صورة رانعة لقناة السويس.
 () ٣) تبين الصورة عملية حفر قناة السويس.

" نشاط (1) "

صنف المصادر الاتية الى اولية وثانوية :-

الكتب

الابحاث

الصور

.....

.....

.....

الموسوعات

البرديات

المخاطبات

.....

.....

.....

" اعمال صفية "

(1) حدد أى مما يلى مصدر اولى او ثانوى:-

- 1- فيلم تسجيلي وثائقي عن حرب اكتوبر. (.....)
 2- مقالة في صحيفة اليوم عن حرب أكتوبر المجيدة. (.....)
 3- صور لمواقع اسرائيلية مدمرة في سيناء. (.....)

(2) اكمل الجمل التالية:-

- 1- المصدر هو كل ما تم تدوينه بعد مرور زمن طويل للحدث.
 2- تتميز المصادر الأولية بأنها أكثر ومعاصرة للأحداث.

"الواجب المنزلي"**(1) ضع علامة (✓) امام العبارات الصحيحة او علامة (x) امام العبارات غير الصحيحة:-**

- 1- الآراء تعبير عما يشعر به شخص ما تجاه موضوع معين وقد يكون صحيحا او خطأ ()
 2- يجب التأكد واثبات صحة المصادر قبل نقلها ()
 3- كل المعلومات الواردة عبر شبكات التواصل الاجتماعي حقيقية ()
 4- الحقائق هي معلومات أو أحداث تم اثبات صحتها ()

(2) اختر الإجابة الصحيحة مما بين القوسين:-

- 1- من المصادر الأولية
 (الموسوعات – المجلات – الأبحاث – الأفلام التسجيلية)
 2- النقوش الموجودة على لوحة الملك نارمر من المصادر
 (الحديثة – الأولية – الثانوية – المعرفية)

(3) حدد أى مما يلى مصدر اولى او ثانوى:-

- 1- صورة جنود مصريين يرفعون العلم المصري علي الضفة الشرقية لقناة السويس (.....)
 2- كتاب لاحد المؤلفين حديثا عن حرب أكتوبر (.....)

(3) انظر الى القائمة و عبر عن كل جملة حقيقه (ح) او رأى (ر):-

- 1- صورة لمنطقة الأهرامات عام 1920م (.....)
 2- محافظة الفيوم هي أجمل محافظات مصر (.....)
 3- يبلغ عدد سكان مصر 100 مليون نسمة (.....)
 4- رسم الفنان صورته جميلة لنهر النيل (.....)

موقع مصر بالنسبة للعالم

الدرس الثالث



يتكون العالم من **سبع** قارات و **خمس** محيطات.

: هي مساحة واسعة من اليابس تضم عددا من الدول.

القارة

: مساحة واسعة من الماء المالح ذات أعماق كبيرة.

المحيط

: موقع المكان بالنسبة لليابس والماء.

الموقع

: تشمل: إفريقيا - آسيا - أوروبا

قارات العالم القديم

تشمل: أمريكا الشمالية - أمريكا الجنوبية - أستراليا - أنتاركتيكا (القارة القطبية الجنوبية

قارات العالم الحديث

).

: الاطلنطي - الهادي - الهندي - المتجمد الشمالي - المتجمد الجنوبي .

المحيطات



تعلم أن...

أكمل...

(1) **المحيط** هو مساحة واسعة من الماء المالح ذات اعماق كبيرة.

(2) **القارة** مساحة واسعة من اليابس تضم عدداً من الدول بداخلها.

فكر واجب...

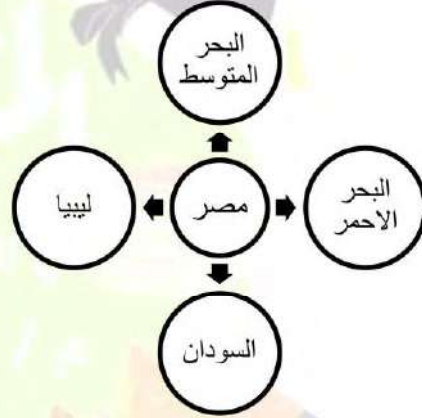
حدد المختلف في عناصر المجموعة التالية مع ذكر السبب:-

- (اسيا - استراليا - افريقيا - اوربا)

موقع مصر الجغرافي بالنسبة للعالم:

أشاد الجميع من الكتاب والمفكرين ومنهم الجغرافي "**جمال حمدان**" بأهمية موقع مصر بين قارات العالم القديم وأثره على الاقتصاد المصري والعالمي حيث:

- تقع مصر في الركن **الشمالي الشرقي** لقارة **إفريقيا** إذ تقع في قلب **العالم القديم**.
- يحدها من الشمال **البحر المتوسط** ومن الشرق **البحر الأحمر** ويحيط بها **اليابس** من الغرب والجنوب.
- تقع مصر في قلب **الوطن العربي** الذي تلتقي عنده الدول العربية بقارة **آسيا** وبقارة **إفريقيا**.

**أهمية موقع مصر الجغرافي قديما وحديثا:****قديما**

- (1) ساعد موقع مصر الجغرافي على تسهيل الاتصال بجيرانها تجاريا وحضاريا.
- (2) أصبحت مصر مركزا تجاريا ومعبرا للتجارة الدولية بين **الشرق** (آسيا) و **الغرب** (أوروبا - أمريكا)
- (3) **نهر النيل**: أضف نهر النيل أهمية كبرى لموقع مصر حيث:-



- عاش المصريون على ضفتيه وقاموا بأعمال الزراعة.
- استخدم نهر النيل كطريق للتجارة بين **شمال مصر** و**جنوبها** وكذلك بين **مصر** و **دول وسط إفريقيا**
- مما ساعد على قيام الحضارة المصرية القديمة - ازدهار الاقتصاد المصري.

4) **قبل حفر قناة السويس:** كانت مصر مركزا تجاريا بين قارة آسيا شرقا و قارة أوروبا غربا حيث كانت السفن تسير كالتالي.

ثم يتم نقلها برا من السويس حتى نهر النيل ومنها إلى البحر المتوسط لاستكمال طريقها إلى أوروبا و كان هذا يأخذ الكثير من الوقت والجهد والمال

كانت سفن البضائع تأتي من آسيا عبر البحر الأحمر حتى خليج السويس

حديثا:

تضاعفت أهمية موقع مصر بعد حفر قناة السويس والتي تم افتتاحها للملاحة عام 1869م حيث انها ربطت قناة السويس بين البحر المتوسط والبحر الأحمر.

مما أدى إلى

- تقليص مدة الإبحار بين آسيا و أوروبا.
- توفير الوقت والجهد والمال.

وذلك مقارنة بالطريق القديم طريق **رأس الرجاء الصالح** (طرق قديما) وهو طريق كانت تقطعه السفن حول **إفريقيا**. وكان يأخذ الكثير من الوقت والجهد والمال.



طريق رأس رجاء الصالح

قناة السويس الجديدة 2015 م.

ازدادت أهمية موقع مصر بعد حفر قناة السويس الجديدة في عام 2015م. مما ساعد على:

- 1-تقليل زمن مرور السفينة في القناة من 20 ساعة إلى 11 ساعة فقط
- 2-استيعاب أكبر السفن حجما وحمولة،
- 3- السماح بمرور السفن في الاتجاهين.



قناة السويس الجديدة

تعلم ان...

حدد نتيجة واحدة لحفر قناة السويس الجديدة ؟

استيعاب أكبر السفن حجماً وحمولة.

" نشاط (1) "

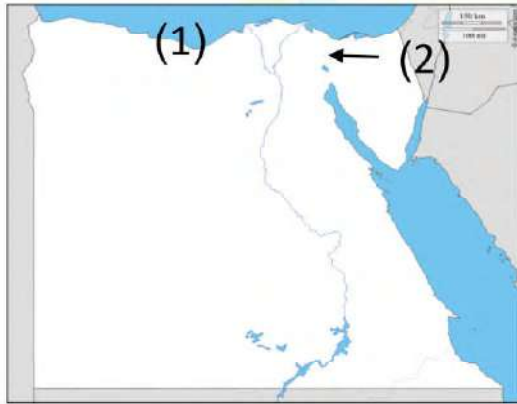
لون قارات العالم القديم باللون الاخضر وقارات العالم الجديد باللون الاصفر :-



" اعمال صفية "

السؤال الأول:

أمامك خريطة صماء لمصر لاحظها ثم حدد ما تشير إليه الأرقام في السؤالين التاليين:-



1 - يشير رقم (1) إلى.....

أ (البحر العربي.

ب (البحر الأحمر.

ج (البحر المتوسط.

د (بحر قزوين.

2 - يشير رقم (2) إلى.....

أ (قناة بنما.

ب (قناة السويس.

ج (قناة سيزوستريس.

د (قناة مانشستر.

السؤال الثاني: صوب ما تحته خط:-

1- أضاف نهر الفرات أهمية كبرى لموقع مصر.

3- تربط قناة السويس بين البحر الأحمر ونهر النيل.

" واجب منزلي "

السؤال الاول : ضع دائرة حول الإجابة الصحيحة مما يلي:

- مصر ملتقى قارتين هما.....
 أ (إفريقيا و أوروبا.)
 ب (إفريقيا و أمريكا الشمالية.)
 ج (إفريقيا و آسيا.)
 د (إفريقيا و أمريكا الجنوبية.)

- تتوسط مصر..... قارات.
 أ (ثلاث.)
 ب (أربع.)
 ج (خمس.)
 د (ست.)

- تقع مصر في الركن من قارة إفريقيا
 أ (الشمال الغربي)
 ب (الشمال الشرق)
 ج (الجنوب الغربي)
 د (الجنوب الشرق)

- 4- يستخدم كطريق للتجارة بين شمال مصر وجنوبها.
 أ (نهر الفرات)
 ب (نهر دجلة)
 ج (نهر النيل)
 د (نهر عطبرة)

- 5- يتشابه كل من قناة السويس ونهر النيل في أن لهما أهمية..... بالنسبة لمصر
 أ (صناعية)
 ب (زراعية)
 ج (تجارية)
 د (حضارية)

- 6- أرض مصر يجتمع فيها البحران.....
 أ (المتوسط والأسود)
 ب (الأحمر والكاربيي)
 ج (الأحمر والأسود)
 د (المتوسط والأحمر)

السؤال الثاني: ضع علامة (√) أمام العبارة الصحيحة، وعلامة (X) أمام العبارة غير الصحيحة:

- 1- زادت أهمية موقع مصر الاقتصادي بعد حفر قناة السويس. ()
 2- لم يؤثر وجود نهر النيل على موقع مصر الجغرافي. ()
 3- كان لمصر تأثير كبير على جيرانها تجاريا فقط. ()
 4- ساعدت قناة السويس الجديدة على مرور السفن في الاتجاهين في نفس الوقت ()

السؤال الثالث: حدد المختلف في عناصر المجموعة التالية:

- 1- (آسيا -أستراليا - إفريقيا - أوروبا)
 2- (المحيط الأطلسي - المحيط الهادي - أمريكا الشمالية - المحيط الهندي)

محافظات مصر

الدرس الرابع



نظراً لاتساع مساحة مصر فقد تم تقسيم مصر الي عدة محافظات.

ما المقصود بالمحافظة

هي مساحة من الأرض تضم مجموعة من المراكز أو الأحياء ولكل محافظة حدود ادارية تفصلها عن المحافظات الأخرى.

عدد محافظات مصر 27 محافظة

محافظات الحدود (المحافظات الصحراوية)	محافظات الوجه القبلي	محافظات الوجه البحري	
هي المحافظات التي تقع علي حدود مصر وعددها "5" محافظات	تقع جنوب القاهرة	تقع شمال القاهرة	موقعها
الوادي الجديد مرسي مطروح شمال سيناء جنوب سيناء محافظة البحر الاحمر	أسوان - المنيا الجيزة - الفيوم بنى سويف - اسيوط سوهاج - قنا الاقصر	القاهرة - البحيرة - الغربية المنوفية - الدقهلية الشرقية - بور سعيد دمياط - كفر الشيخ الاسكندرية - السويس الاسماعيلية - القليوبية	أمثلتها



عاصمة مصر هي مدينة القاهرة.

و تم اختيار القاهرة عاصمة مصر

بسبب

- 1- موقعها المتميز فهي حلقة التقاء الوجهين البحري والقبلي
- 2- تتركز بها معظم الوزارات مثل (وزارة التربية والتعليم)
- 3- تعتبر مركزا تجاريا وصناعيا وثقافيا
- 4- بها الكثير من المعالم الإثارية مثل:
 - مسجد عمرو بن العاص.
 - قلعة صلاح الدين.
 - الكنيسة المعلقة.



قلعة صلاح الدين



مسجد عمرو بن العاص

تعلم أن...

بم تفسر ... اختيار مدينة القاهرة عاصمة لمصر؟

بسبب

- 1- موقعها المتميز فهي حلقة التقاء الوجهين البحري والقبلي.
- 2- تتركز بها معظم الوزارات.
- 3- تعتب مركزا تجاريا وصناعيا وثقافيا.
- 4- بها الكثير من المعالم الإثارية.

فكر واجب...

اختر الاجابة الصحيحة مما بين القوسين:-

(1 محافظة الغربية تقع ضمن محافظات.....)

(الوجه البحري - الوجه القبلي - محافظات الحدود - القناة)

(2 عدد محافظات الحدود.....محافظات.

(ست - سبع - خمس - ثلاثة)

قامت الدولة بالعديد من المشروعات مثل:

"مشروع حي الأسمرات - مشروع تطوير حي السيدة زينب - مشروع محور روض الفرج "

تقوم الدولة حاليا بإنشاء عاصمة جديده وهي العاصمة الادارية الجديدة.

قامت مصر بإنشاء العاصمة الادارية الجديدة لتخفيف الضغط السكاني وتكديس الخدمات في العاصمة الحالية.



حي الأسمرات



العاصمة الادارية الجديده



صورة عن طريق الاقمار الصناعية

نظام تحديد المواقع العالمي GPS

GPS هو اختصار لمصطلح نظام تحديد المواقع العالمي.

S يعنى نظام (SYSTEM)

P يعنى تحديد المواقع (POSITIONING)

G يعنى العالمي (Global)

_هو نظام يتيح تحديد مواقع الأماكن عند ادخال اسم المكان او العنوان في نظام عالمي بفضل صور الاقمار الصناعية.



استخداماته:-

1- تحديد المحافظات وحدودها.

2- تحديد عنوان وموقع ما.

3- تحديد الاماكن.

4- تحديد اتجاهات السير.

ويتم ذلك باستخدام الاقمار الصناعية.

تعلم أن...

بم تفسر ... انشاء الدولة للعاصمة الادارية الجديدة ؟

لتخفيف الضغط السكاني وتكثس الخدمات في العاصمة الحالية (القاهرة).

فكر واجب...

صوب ما تحته خط :-

1) قلعة صلاح الدين تقع في محافظة الجيزة.

2) قامت الدولة بتطوير مصدات الامواج في محافظة القاهرة.

" نشاط (1) "

صل من المجموعة (أ) ما يناسبه من المجموعة (ب):-

(ب)	(أ)
اسوان	عاصمة مصر
المنوفية	من محافظات الوجه القبلي.
البحر الاحمر	من محافظات الوجه البحري.
القاهرة	من محافظات الحدود.

" اعمال صفية "1) اختر الإجابة الصحيحة مما بين القوسين

1) لكل محافظة حدود..... تفصلها عن المحافظات المجاورة

(سياسية - طبيعية - بشرية - ادارية)

2) كل مما يأتي من معالم محافظة القاهرة ماعدا

(مسجد عمرو بن العاص - الكنيسة المعلقة - قلعة قايتباي - قلعة صالح الدين)

2) أكمل الحمل التالية بكلمات مناسبة:

1- محافظة هي عاصمة مصر

2- من محافظات الوجه القبلي أسوان و

" الواجب المنزلي "السؤال الاول : اختر الإجابة الصحيحة مما بين القوسين:-

1) اختصار نظام تحديد المواقع العالمي هو

(GPC - CPC - GPS - PGS)

2) يعتمد نظام تحديد المواقع العالمي علي صور

(الخرائط - الأقمار الصناعية - هيئة المساحة - الأرصاد)

3) كل مما يأتي من محافظات الوجه القبلي ماعدا محافظة.....

(أسوان - قنا - المنيا - الإسكندرية)

السؤال الثاني : أكتب المصطلح العلمي:-

1) مساحة من الأرض تضم مجموعة من المراكز أو الأحياء (.....)

2) الحدود التي تفصل كل محافظة عن غيرها (.....)

3) عاصمة جديدة تنشئها الدولة حاليا لتخفيف الضغط السكاني عن القاهرة (.....)

السؤال الثالث : ضع علامة (✓) أمام العبارات الصحيحة أو علامة (✗) أمام العبارات غير الصحيحة:-

1) محافظة الاسكندرية هي عاصمة مصر الحالية. ()

2) تقع محافظة دمياط ضمن محافظات الوجه القبلي. ()

رموز بلدي

الدرس الخامس

العلم

: هو رمز يتخذه كل بلد ليعبر عن تاريخه وتراثه ولكل جزء فيه معني خاص به.

شكل علم مصر:-

علي شكل **مستطيل** ويتكون من **ثلاث ألوان** يرمز كل منها الي معني محدد.



اللون الاحمر: يعبر عن مرحلة النضال ودماء الشهداء من اجل الحرية.

اللون الابيض: يعبر عن السلام.

اللون الاسود: يعبر عن الظلم الذي تعرضت له مصر في فترات الاستعمار.

النسر اصفر ذهبي: يتوسط الجزء الابيض، ومأخوذ عن **نسر صلاح الدين**، و يرمز الي قوة مصر وعراقة حضارتها.

**اماكن وجود العلم**: (يرفع في جميع انحاء البلاد)

- الوزارات والهيئات والمؤسسات الحكومية.
- المواقع السياحية والمؤتمرات والمناسبات الرسمية.
- وسائل النقل الدولية مثل الطائرات.

وسائل نقل دولية

الوزارات والهيئات والمؤسسات الحكومية

احترام العلم الوطني واجب وطني :-

لأنه رمز للدولة حيث أكدت المادة (223) من دستور عام 2014م أن إهانة العلم جريمة يعاقب عليها القانون.

تعلم ان ...

صوب ما تحته خط:-

(مستطيل)

(1) يتخذ علم مصر علي شكل مربع.

(الاحمر)

(2) اللون الاسود في علم مصر يدل علي النضال و دماء الشهداء.

فكر واجب...

ضع علامة (صح) امام العبارة الصحيحة وعلامة (خطأ) امام العبارة الغير صحيحة:-

- () 1) النسر الموجود في علم مصر مأخوذ من نسر جوهر الصقلي.
 () 2) اللون الابيض فى علم مصر يعبر عن السلام.

أهم السلوكيات التي تعبر عن احترام العلم المصري



- 1 - الوقوف باحترام اثناء تحية العلم والمحافظة عليه.
- 2 - عدم الكتابة او الرسم عليه.
- 3 - عدم لمس الارض او ابتلاله بالماء.
- 4 - عدم تمزيقه او حرقه.
- 5 - المحافظة عليه.

النشيد الوطني



الشاعر محمد يونس



الفنان سيد درويش

- يصاحب تحية العلم النشيد الوطني (بلادي بلادي).
- كتب كلماته الشاعر محمد يونس القاضي.
- لحنه الفنان سيد درويش.

تعلم ان...

ما النتائج المترتبة على ... وجود المادة (223) من الدستور المصري لعام 2014م ؟

ادي الي وجوب احترام العلم واهانتته جريمة يعاقب عليها القانون.

فكر واجب ...

ضع علامة (صح) امام العبارة الصحيحة وعلامة (خطأ) امام العبارة الغير صحيحة:-

- () 1) نشيد بلادي بلادي قام بتلحينه الفنان سيد درويش.
- () 2) يجب لوقوف باحترام اثناء تحية العلم والمحافظة عليه.

لكل دولة علمها الخاص الذي يحمل رموزاً ومعاني مميزة لاحظ اعلام الدول التالية :-

 <p>كينيا</p>	<p>يتكون هذا العلم من أربعة ألوان: اللون الأسود يرمز إلى النضال من أجل الحرية والاستقلال، واللون الأحمر يرمز إلى الدم الذي أريق في التحرر من الاستعمار، واللون الأخضر يرمز إلى الثروات الطبيعية والأرض، واللون الأبيض يرمز إلى السلام، ويتوسط العلم درع ورمحان متقاطعان كرمز للحروب التي خاضها الشعب من أجل تحقيق استقلاله.</p>
 <p>لبنان</p>	<p>يتكون هذا العلم من لونين : اللون الأحمر يرمز إلى دماء الشهداء من أجل الاستقلال والتحرير، واللون الأبيض يرمز إلى الثلج الذي يتراكم على الجبال وهو رمز الصفاء والسلام، وتتوسط العلم شجرة الأرز التي ترمز إلى القداسة والخلود والصمود والعراقة.</p>



الولايات المتحدة الامريكية

يضم هذا العلم ثلاثة عشر شريطاً وخمسين نجمة، بحيث تمثل كل نجمة منها واحدة من ولايات الاتحاد، كذلك لألوان هذا العلم دلالتها: الأحمر للشجاعة، والأبيض للنقاء، والأزرق للعدالة

"الاعياد القومية في محافظتنا وشعاراتها"

لكل محافظة عيدها القومي الخاص بها والذي يرتبط بحدث تاريخي او ذكري مهمة مرت بها المحافظة مثال لذلك:

محافظة القاهرة تحتفل بعيدها القومي في **السادس من يوليو** كل عام. لأن هذا اليوم يوافق وضع القائد **جواهر الصقلي** حجر الأساس لبناء مدينة القاهرة عام 969م.



مظاهر الاحتفال بالعيد القومي للمحافظة

- 1- تزيين وتجميل الميادين والشوارع.
- 2- رفع علم مصر وشعار المحافظة فوق المباني الحكومية.
- 3- اقامة المهرجانات والاحتفالات والمسابقات.
- 4- افتتاح المحافظ عدداً من المشروعات لخدمة أبناء المحافظة.

تعلم أن...

اذكر مظهرين من مظاهر احتفال محافظة القاهرة بالعيد القومي ؟

- 1) رفع علم مصر وشعار المحافظة فوق المباني الحكومية.
- 2) اقامة المهرجانات والاحتفالات والمسابقات.

فكر واجب...

صوب ما تحته خط:-

- 1) قام بوضع حجر الاساس لمدينة القاهرة القائد صالح الدين الابوبى (.....)
- 2) العيد القومي لمحافظة القاهرة يوافق يوم السادس من مايو (.....)



شعار المحافظة:-

لكل محافظة من محافظات مصر شعاراً خاصاً بها.

الفرق بين العلم والشعار

الشعار	العلم
<p>راية تتخذها المحافظة رمزاً لها لتعبر عن نشاط سكانها أو جزء من تاريخها.</p> 	<p>رمز يتخذه كل بلد ليعبر عن تاريخه وتراثه</p> 

لاحظ أن شعار محافظة القاهرة تجده يضم عدة رموز هي :

- 1- الجامع الأزهر ومكتوب علي قاعدته كلمة "القاهرة"
- 2- خلف الجامع تظهر شمس ساطعه تدل علي ان الجامع الأزهر هو منارة الاسلام في العالم أجمع.

تعلم أن...

أكمل العبارات الآتية بكلمات مناسبة :-

- 1) لكل محافظة شعار خاص بها كما ان لكل دولة علم خاص بها.
- 2) توجد صور لجامع الأزهر الشريف علي شعار محافظة القاهرة.


فكر واجب...

ضع علامة (صح) أمام العبارات الصحيحة أو علامة (خطأ) أمام العبارات غير الصحيحة:-

- () 1) شعار محافظة الجيزة هي صورة للجامع الازهر وخلفه شمس ساطعة.
- () 2) الشعار هو راية تتخذها المحافظة رمزا لها لتعبر عن نشاط سكانها أو جزء من تاريخها.

" نشاط (1) "

لون علم مصر :-



" اعمال صفيه "

اختر الاجابة الصحيحة مما بين القوسين:-

- 1- يتوسط العلم المصري حالياً
(نجمتان - هلال - نسر - نجمة)
- 2- يعبر عن فترة السلام في العلم المصري اللون
(الأسود - الأحمر - الأبيض - الأصفر)

اختر الاجابة الصحيحة مما بين القوسين:-

- 1) وضع حجر الاساس لمدينة القاهرة عام 969م القائد
(جوهر الصقلي - صلاح الدين الأيوبي - عز الدين أيبك - قطز)
- 2) يوجد في الشعار الخاص بمحافظة القاهرة جامع.....وهو منارة الاسلام في العالم أجمع.

(عمرو بن العاص - أحمد بن طولون - الأزهر الشريف - السلطان حسن)

3) راية تتخذها المحافظة رمزا لها

(العلم - الشعار - الدرع - الأيقونة)

ضع علامة (✓) أمام العبارات الصحيحة أو علامة (✗) أمام العبارات غير الصحيحة:-

- 1- اللون الاحمر في العلم المصري يعبر عن الظلم في فترة الاستعمار ()
2- يرفع العلم علي وسائل النقل الدولية مثل الطائرات ()

" الواجب المنزلي "

اختر الاجابة الصحيحة مما بين القوسين:-

- 1- قام بتأليف كلمات النشيد الوطني
(أحمد شوقي - حافظ ابراهيم - محمد يونس - محمد عبدالوهاب)
2- النسر الذهبي الذي يتوسط علم مصر مأخوذ من نسر
(جوهر الصقلي - صلاح الدين - قطز - المعز لدين الله)

أكمل الجمل الآتية:-

- 1- مرحلة النضال ودماء الشهداء يعبر عنها اللون في العلم المصري
2- قامبتلحين النشيد القومي
3- يعبر اللون عن الظلم الذي تعرضت له مصر.
4- العيد القومي لمحافظة يوافق السادس من يوليو
5- رمز يتخذها كل بلد ليعبر عن تاريخه.....
6- يقوم بافتتاح عدد من المشروعات لخدمة أبناء المحافظة
الشمس والجامع الازهر شعار لمحافظة.....

ضع علامة (✓) أمام العبارات الصحيحة أو علامة (✗) أمام العبارات غير الصحيحة:-

- 1) احترام علمنا ليس واجب وطني ()
2) مر العلم المصري بعدة مراحل حتي وصل الي الشكل الحالي ()
3) تتخذ محافظة الجيزة يوم السادس من يوليو عيداً قومياً لها ()
4) أثناء الاحتفال بالعيد القومي للمحافظة تقام الاحتفالات والمهرجانات ()
5) المحافظ يفتتح عدداً من المشروعات أثناء العيد القومي للمحافظة ()

اختبار (1)

السؤال الاول : اختر الاجابة الصحيحة ما بين الاقواس:-

- (1) لون النسر في علم مصر
 (ابيض - احمر - اخضر - اصفر ذهبي)
- (2) يستخدم الخريطة في تحديد ملكية الاراضي الزراعية.
 (الفلاح - السائح - الضابط - الطالب)
- (3) النقوش علي المعابد والبرديات من المصادر.....
 (الثانوية - الاولى - الاحادية - الثلاثية)
- (4) تقع مصر في الركن من قارة افريقيا.
 (الشمال الغربي - الجنوب الغربي - الشمال الشرقي - الجنوب لشرقي)
- (5) عاصمة مصر هي محافظة.....
 (الجيزة - الفيوم - بني سويف - القاهرة)

السؤال الثاني : ضع علامة (صح) امام العبارة الصحيحة وعلامة (خطأ) امام العبارة غير الصحيحة:-

- () (1) من مظاهر الاحتفال بالعيد القومي للمحافظة تزيين وتجميل الشوارع والميادين.
- () (2) توجد عدة ادوات تستخدم لقياس احوال الطقس.
- () (3) خطوط الطول ترسم بشكل افقياً علي الخريطة.
- () (4) يقع البحر الاحمر شمال مصر.

مراجعة عامة على (الوحدة الاولى)السؤال الاول: اختر الاجابة الصحيحة مما بين الاقواس:-

- 1-رسم توضيحي لسطح الارض او جزء منه باستخدام مجموعة من الرموز و الالوان ومقياس رسم محدد. (الخريطة – الصورة – مقياس الرسم)
- 2- من الاتجاهات الفرعية..... (شمال – شمال شرق – جنوب)
- 3- يستخدم الخريطة للوصول الي الاماكن السياحية والاثرية. (الفلاح – التلميذ – السائح)
- 4- بالإضافة الي الخرائط ،تستخدمفي تحديد مواقع الاماكن. (الرسومات – الصور – اللوحات)
- 5- تساعدنا في رسم خرائط اكثر تفصيلاً ودقة. (الصورة الجوية – الصورة الفضائية – الخريطة)
- 6- الصور الفضائية يتم التقاطها باستخدام لذلك تظهر سطح الارض من اعلي. (الاقمار الصناعية – الطائرات – الصواريخ)
- 7- دائرة العرض الرئيسية هي دائرة..... (الاستواء – جرينتش – الشمالية)
- 8- هي قناة تربط بين البحر الاحمر والبحر المتوسط مروراً بنهر النيل. (قناة سيزوستريس – قناة السويس – قناة السويس الجديدة)
- 9- قام الملك بحفر قناة سيزوستريس. (سنوسرت الاول – سنوسرت الثاني – سنوسرت الثالث)
- 10- تم حفر قناة السويس بأيدي..... (مصريين – فرنسيين – اوربيين)
- 11- المصادر متوفرة ويسهل الحصول عليها. (الاولى – الثانوية – الاحادية)
- 12- الصور من المصادر..... (الاولى – الثانوية – الاحادية)
- 13- المخاطبات والوثائق الرسمية وكتابات المؤرخين القدماء من المصادر..... (الاولى – الثانوية – الاحادية)
- 14- الكتب والمقالات من المصادر..... (الاولى – الثانوية – الاحادية)
- 15- الافلام التسجيلية من المصادر..... (الاولى – الثانوية – الاحادية)
- 16- النقوش علي المعابد والبرديات من المصادر..... (الاولى – الثانوية – الاحادية)
- 17- الابحاث والموسوعات من المصادر..... (الاولى – الثانوية – الاحادية)

- 18- خطاب الرئيس محمد انور السادات الذي القاه في حفل اعادة افتتاح قناة السويس 1975م
مصدر.....
(اولي - ثانوي - ثالثي)
- 19- من المصادر الاولية.....
(الموسوعات - الابحاث - الصور)
- 20- من المصادر الثانوية.....
(المقالات - الصور - النقوش)
- 21- تعد النقوش الفرعونية علي معبد الكرنك مصدراً.....
(اولياً - ثانوياً - ثالثياً)
- 22- يتكون العالم من قارات.
(خمس - ست - سبع)
- 23- يتكون العالم منمحيطات.
(خمس - ست - سبع)
- 24- تقع مصر في الركن.....من قارة افريقيا.
(الشمال الشرقي - الشمال الغربي - الجنوب الشرقي)
- 25- تقع الدول العربية بين قارة افريقيا وقارة.....
(اسيا - اوربا - استراليا)
- 26- مصر يحيط بها اليابس من الغرب و.....
(الشمال - الشرق - الجنوب)
- 27- استخدم كطريق للتجارة بين مصر و دول وسط افريقيا.
(نهر النيل - قناة السويس - قناة سيزوستريس)
- 28- بعد حفر قناة السويس ادي ذلك الي تقليص مدة الابحار بين اسيا و
(انتاركتيكا - اوريا - استراليا)
- 29- تم اختيار القاهرة كعاصمة لمصر لأنها.....
(موقعها متميز - نقطة التقاء الوجه البحري بالوجه القبلي - كلاهما صحيح)
- 30- يعمل نظام تحديد المواقع العالمي (GPS) باستخدام صور.....
(الاقمار الصناعية - الطائرات - فوتوغرافية)
- 31- لون النسر في علم مصر.....
(ابيض - احمر - اصفر ذهبي)
- 32- النسر في علم مصر يتوسط الجزء.....
(الاحمر - الابيض - الاسود)
- 33- من السلوكيات التي تعبر عن احترام العلم.....
(عدم الكتابة او الرسم عليه - عدم ابتلاله بالماء - كلاهما صحيح)
- 34- هو مؤلف النشيد الوطني " بلادي بلادي ".
(محمد يونس القاضي - سيد درويش - احمد شوقي)
- 35- هو ملحن النشيد الوطني " بلادي بلادي ".
(محمد يونس القاضي - سيد درويش - احمد شوقي)
- 36- تحتفل محافظة القاهرة بعيدها القومي في
(محمد يونس القاضي - سيد درويش - احمد شوقي)

(6 يوليو - 7 يوليو - 6 يونيو)

- 37- من مظاهر الاحتفال بالعيد القومي للمحافظة إقامة.....
 (المهرجانات - الاحتفالات - المسابقات - جميع ما سبق)
- 38- في شعار محافظة القاهرة توجد صورة للجامع الازهر الشريف ومكتوب علي قاعدته.....
 (مصر - القاهرة - الدولة)

السؤال الثاني: صوب ما تحته خط:-

- 1- الفلاح يستخدم الخريطة في تحديد المواقع الحربية. (.....)
- 2- تتميز الطائرات بقدرتها علي الدوران حول الارض. (.....)
- 3- يستخدم مفتاح الخريطة لحساب المسافة علي الخريطة. (.....)
- 4- تساعد الصور الفوتوغرافية السائح في الوصول للمناطق السياحية. (.....)
- 5- تتخذ دوائر العرض شكلاً عمودياً. (.....)
- 6- اشرف علي حفر قناة السويس مهندسين مصريين. (.....)
- 7- الرأي هي معلومات او احداث تم إثبات صحتها والتأكد من دقتها. (.....)
- 8- الحقيقة تعبير عما يشعر به او يفكر فيه شخص ما تجاه موضوع معين. (.....)
- 9- يتميز الرأي بالدقة والموضوعية. (.....)
- 10- فيلم تسجيلي عن عملية بناء قناة السويس الجديدة يعد ذلك مصدراً ثانوياً. (.....)
- 11- صورة رائعة لنهر النيل يعد ذلك حقيقة. (.....)
- 12- اسيا وافريقيا و اوربا من قارات العالم الجديد. (.....)
- 13- يحد مصر من جهة الشمال البحر الاحمر. (.....)
- 14- استخدم البحر الاحمر كطريق للتجارة بين شمال مصر وجنوبها. (.....)
- 15- ساعد البحر المتوسط علي قيام الحضارة المصرية القديمة وازدهار الاقتصاد المصري. (.....)
- 16- نظراً لآتساع مساحة مصر تم تقسيمها الي ولايات. (.....)
- 17- لكل محافظة حدود سياسية تفصلها عن جيرانها. (.....)
- 18- محافظة السويس من محافظات الحدود. (.....)
- 19- يبلغ عدد محافظات شبه جزيرة سيناء ثلاث محافظات. (.....)
- 20- محافظة الاسكندرية تقع علي البحر الاحمر. (.....)
- 21- محافظة اسوان من محافظات الوجه البحري. (.....)
- 22- عند النظر الي صورة علم مصر تلاحظ انه علي شكل مربع. (.....)

- 23- نسر علم مصر مأخوذ عن نسر جوهر الصقلي ويرمز لقوة مصر وعراقة حضارتها. (.....)
- 24- يوجد علم مصر علي وسائل النقل الدولية مثل السيارات. (.....)
- 25- من سلوكيات احترام العلم تمزيقه و حرقه. (.....)
- 26- وضع القائد صلاح الدين حجر الاساس لبناء مدينة القاهرة عام 969م. (.....)
- 27- اثناء العيد القومي للمحافظة يقوم الرئيس بافتتاح عدد من المشروعات لخدمة ابناء المحافظة. (.....)
- 28- يوجد في شعار محافظة القاهرة صورة لجامع عمرو بن العاص. (.....)

السؤال الثالث: اكتب ما تشير الية العبارات الاتية:-

- 1- يشير الي المعلومات الواردة علي الخريطة. (.....)
- 2- توضح الاتجاهات الاصلية والاتجاهات الفرعية وتساعدنا في تحديد موقع معين علي الخريطة. (.....)
- 3- هو النسبة بين المسافة علي الخريطة وما يقابلها علي الطبيعة. (.....)
- 4- يوضح مدلول ومعني الرموز الموجودة علي الخريطة. (.....)
- 5- تطلق علي خطوط الطول و دوائر العرض. (.....)
- 6- تتخذ شكلاً رأسياً لتحديد الموقع شرق خط الطول الرئيسي وغربة. (.....)
- 7- تتخذ شكلاً افقياً لتحديد الموقع شمال دائرة الاستواء وجنوبها. (.....)
- 8- يتم التقاطها من مكان مرتفع في الجو باستخدام الطائرات. (.....)
- 9- الجهة التي تقع بين الجنوب والشرق. (.....)
- 10- اهم ممر ملاحى عالمي يربط بين البحر الاحمر والبحر المتوسط. (.....)
- 11- قناة موازية لقناة السويس وتم إنشاؤها لتسيير السفن في الاتجاهين بدون توقف. (.....)
- 12- كل ما تم نقشة او تدوينه سواء من قبل اشخاص عاصروا الحدث او شاركوا فيه ،ويرتبط بزمن وقوع الحدث. (.....)
- 13- كل ما تم تدوينه بعد مرور زمن طويل منذ وقوع الحدث وغالباً ما يستند الي المصادر الاولية. (.....)
- 14- قارة من قارات العالم القديم وتقع بها مصر. (.....)
- 15- عاش المصريون علي ضفتيه وقاموا بأعمال الزراعة . (.....)
- 16- طريق كانت تقطعه السفن حول افريقيا. (.....)
- 17- هي مساحة من الارض تضم مجموعة من المراكز و الاحياء. (.....)
- 18- اكبر محافظة في مصر. (.....)
- 19- اصغر محافظة في مصر. (.....)

- 20- عاصمة جمهورية مصر العربية. (.....)
- 21- عاصمة تقوم مصر بإنشائها لتخفيف الضغط السكاني وتكسد الخدمات علي العاصمة الحالية. (.....)
- 22- اختصار لمصطلح نظام تحديد المواقع العالمي. (.....)
- 23- رمز يتخذ كل بلد ليعبر عن تاريخه وتراثه ولكل جزء فيه معني خاص به. (.....)
- 24- رايه تتخذها المحافظة رمزاً لها لتعبر عن نشاط سكانها او جزء من تاريخها. (.....)
- 25- لون في علم مصر ويعبر عن مرحلة النضال ودماء الشهداء من اجل الحرية. (.....)
- 26- لون في علم مصر يعبر عن السلام. (.....)
- 27- لون في علم مصر يعبر عن الظلم الذي تعرضت له مصر في فترات الاستعمار. (.....)
- 28- جامع يعتبر هو منارة الاسلام في العالم اجمع. (.....)

السؤال الرابع: ضع كلمة (صح) امام العبارة الصحيحة ، وكلمة (خطأ) امام العبارة غير الصحيحة:-

- 1- من الاتجاهات الاصلية (شمال - جنوب - شرق - غرب) ()
- 2- الفلاح يستخدم الخريطة في تحديد المواقع الحربية. ()
- 3- يستخدم الطيار وقبطان السفينة الخريطة لتحديد المواقع. ()
- 4- تعطينا الصورة الجوية صورة حقيقية لسطح الارض اكثر من الصورة الفضائية. ()
- 5- ازداد دور مصر اهمية بعد حفر قناة السويس الجديدة 2015م. ()
- 6- الصورة الفضائية من الادوات التي تستخدم في تحديد المواقع. ()
- 7- خطوط الطول ترسم بشكل افقياً علي الخريطة. ()
- 8- الصور الفضائية تلتقط عدداً اكبر من المواقع عن الصورة الجوية. ()
- 9- احتلت مصر دوراً رئيسياً في التجارة الدولية بعد حفر قناة السويس. ()
- 10- تم افتتاح قناة السويس في حفل اسطوري دُعي اليه ملوك العالم. ()
- 11- عند حفر قناة السويس الجديدة 2015م زاد ذلك من زمن عبور السفن. ()
- 12- تتميز المصادر الثانوية بأنها اكثر دقة ومعاصرة للأحداث. ()
- 13- لا يجب التسرع بالأخذ بالرأي إلا بعد التأكد منه. ()
- 14- يقع البحر الاحمر شمال مصر. ()
- 15- تعد مصر قلب الوطن العربي. ()
- 16- ساعد موقع مصر الجغرافي علي تسهيل الاتصال بجيرانها تجارياً وحضارياً. ()
- 17- لم يصف نهر النيل اهمية كبيرة لمصر. ()

- 18- ساعد موقع مصر علي جعلها مركزاً تجارياً بين الشرق (اسيا) والغرب (اوربا وامريكا) ()
- 19- قبل حفر قناة السويس كانت السفن تأخذ الكثير من الوقت والجهد والمال. ()
- 20- عدد محافظات الحدود في مصر اربع محافظات. ()
- 21- بعد حفر قناة السويس الجديدة ادي ذلك الي تقليل زمن مرور السفينة في القناة من 20 ساعة الي 11 ساعة فقط واستيعاب اكبر السفن حجماً وحمولة. ()
- 22- نظراً لانتساع مساحة الدول تم تقسيمها الي ولايات او مقاطعات او محافظات. ()
- 23- يبلغ عدد محافظات مصر 28 محافظة. ()
- 24- تهتم الدولة بتطوير القاهرة من خلال اقامة المشروعات مثل حي الاسمرات وتطوير حي السيدة زينب ومحور روض الفرج. ()
- 25- يوجد بالقاهرة العديد من المعالم الاثرية و الوزارات و المراكز. ()
- 26- يستخدم الـ GPS في تحديد المحافظات والاماكن واتجاهات السير. ()
- 27- محافظة البحر الاحمر من محافظات الوجه البحري. ()
- 28- يتكون علم مصر من اربع الوان يرمز كل منها الي معنى محدد. ()
- 29- من سلوكيات احترام العلم رفعة عالياً وتوخي عدم لمسه للأرض. ()
- 30- لان العلم رمز للدولة فهو لا يُرفع في جميع ارجاء البلاد. ()
- 31- يوجد علم مصر في اماكن عديدة مثل الوزارات والهيئات والمؤسسات الحكومية. ()
- 32- يوجد علم مصر في المواقع السياحية والمؤتمرات والمناسبات الرسمية. ()
- 33- احترام العلم ليس واجب وطني. ()
- 34- اكدت المادة 223 من الدستور المصري لعام 2014م ان اهانة العلم المصري جريمة يُعاقب عليها القانون. ()
- 35- من سلوكيات احترام العلم الوقوف باحترام اثناء تحية العلم. ()
- 36- العيد القومي للمحافظة لا يرتبط بحدث تاريخي او ذكري مهمة مرت بها المحافظة. ()
- 37- من مظاهر الاحتفال بالعيد القومي للمحافظة رفع علم مصر وشعار المحافظة فوق المباني الحكومية. ()

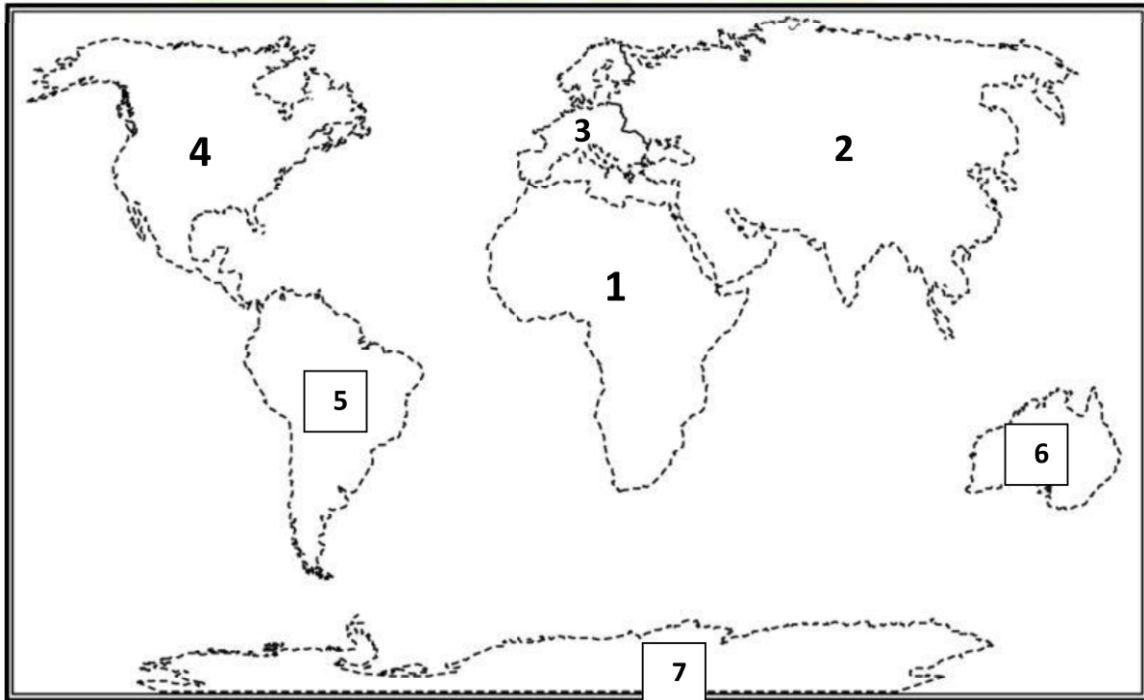
السؤال الخامس : أكمل العبارات الاتيه بكلمة مناسبة:-

- 1- من المعالم الاثرية الموجودة بمحافظة القاهرة مسجد و الكنيسة و قلعة
- 2- تقع مصر وسط قارات العالم القديم اي قارة و و
- 3- ساعد موقع مصر الجغرافي علي ازدهار
- 4- قناة السويس اختصرت المسافة بين اسيا و

- 5- تتركز بالقاهرة بعض الوزارات مثل وزارة
- 6- من محافظات الوجه البحري و..... و.....
- 7- من محافظات الوجه القبلي..... و..... و.....
- 8- من محافظات الحدود..... و..... و.....
- 9- محافظة القاهرة يوجد بها العديد من المراكز مثل مراكز..... ومراكز..... ومراكز.....
- 10- تقوم المحافظة اثناء الاحتفال بالعيد القومي بتزيين وتجميل..... و.....
- 11- في شعار محافظة القاهرة يوجد خلف الجامع ساطعة تدل علي ان الجامع الازهر هو منارة الاسلام في العالم أجمع.
- 12- سمح ⁶مصر بمرور السفن في الاتجاهين بعد حفر..... عام 2015م.

" خرائط الوحدة الاولى "

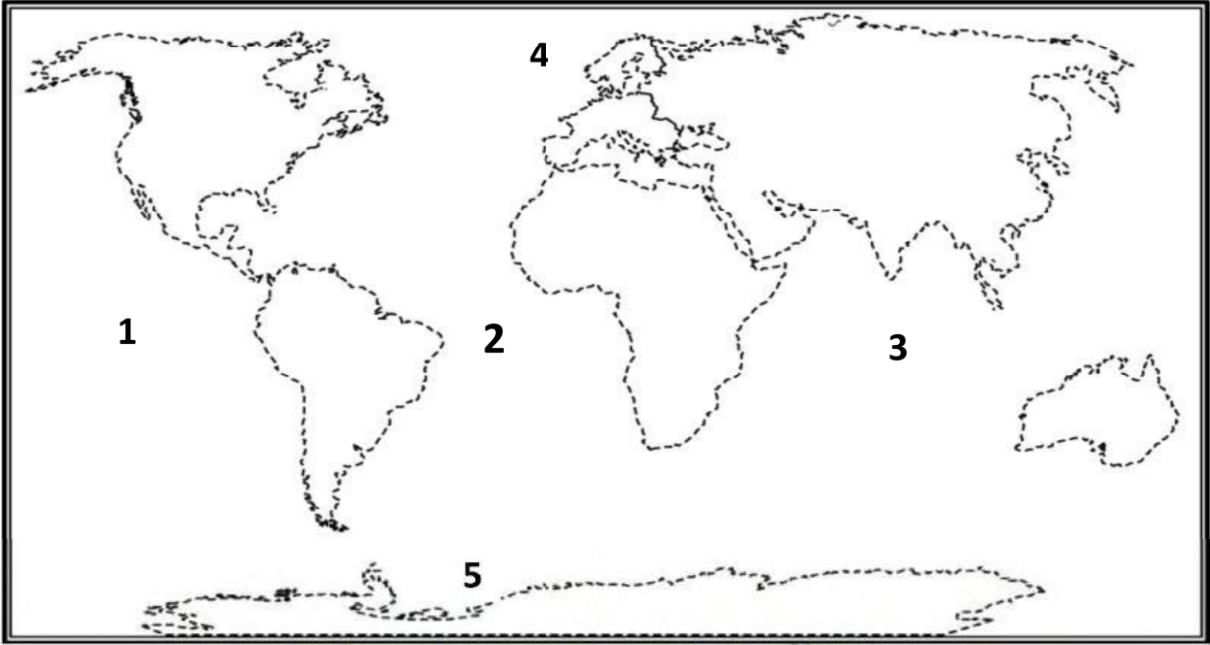
السؤال الاول: أمامك خريطة طماء للعالم ،أكمل ما تشير الية الأرقام الآتية:-



- 1- قارة..... 2- قارة..... 3- قارة.....
- 4- قارة..... 5- قارة..... 6-قارة.....
- 7-القارة.....



السؤال الثاني: أمامك خريطة صماء للعالم، اكمل ما تشير إليه الأرقام الآتية:-



1- المحيط.....

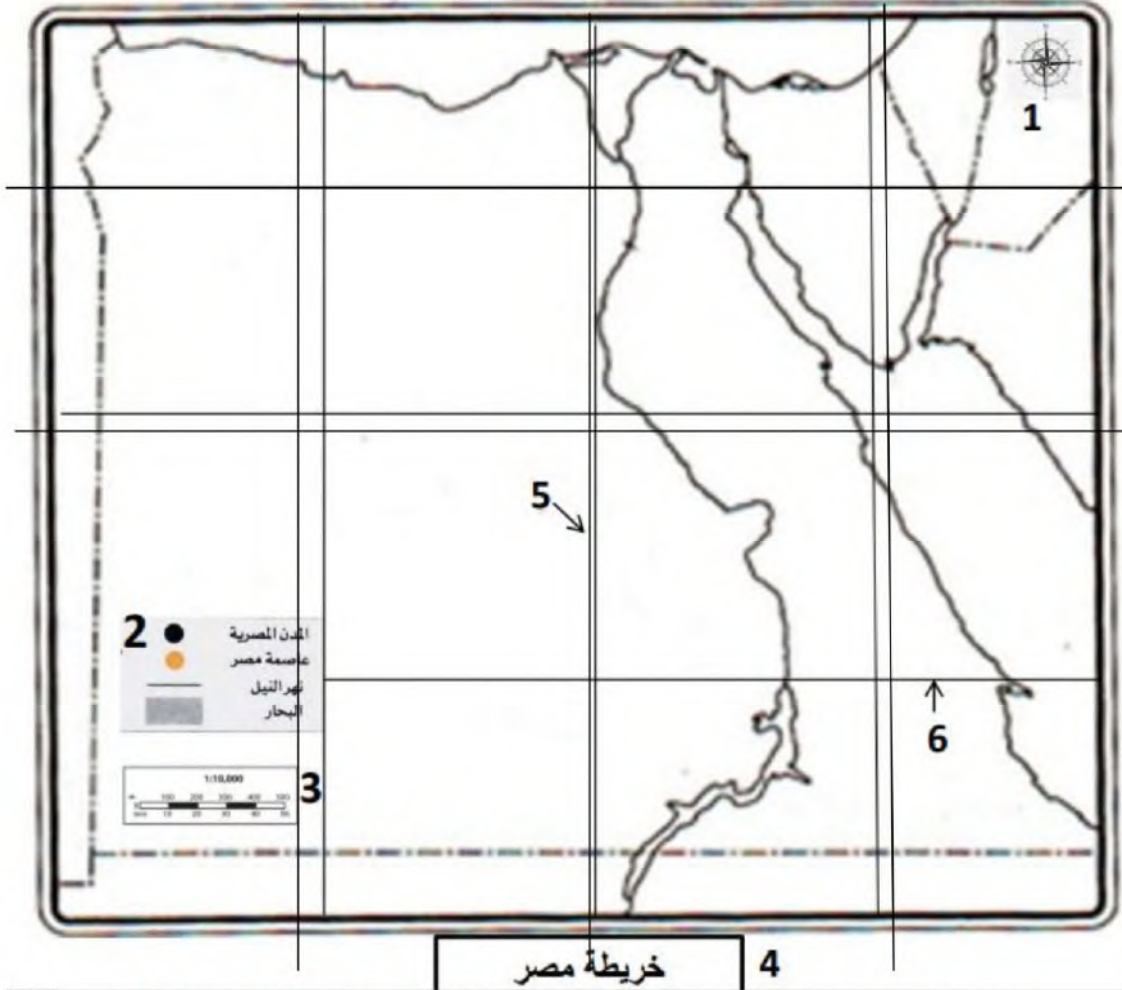
2- المحيط.....

3- المحيط.....

4- المحيط.....

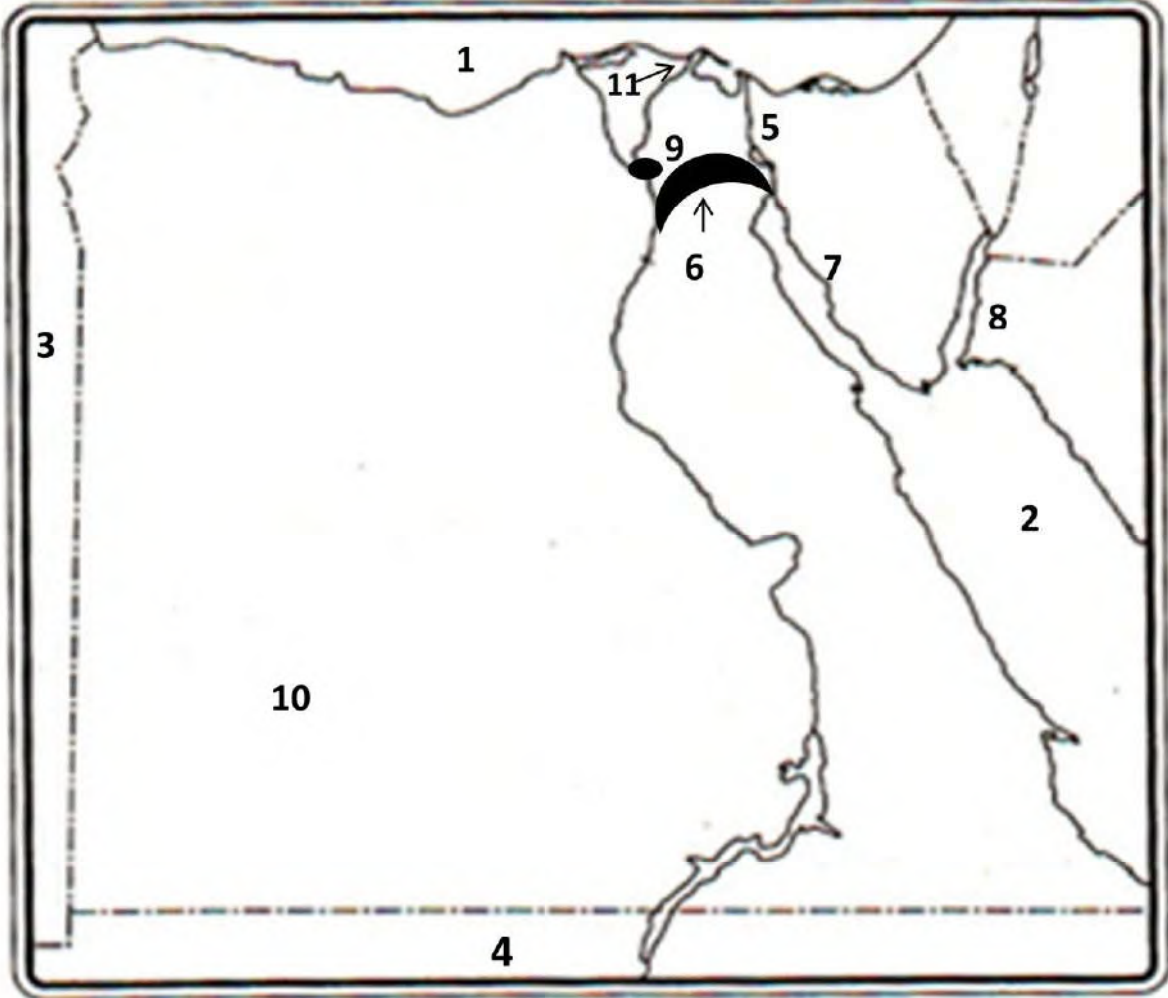
5- المحيط.....

السؤال الثالث: أمامك خريطة صماء لمصر، اكمل ما تشير إليه الأرقام الآتية:-



- 1- من العناصر الأساسية في الخريطة.....
- 2- من العناصر الأساسية في الخريطة.....
- 3- من العناصر الأساسية في الخريطة.....
- 4- من العناصر الأساسية في الخريطة.....
- 5- من العناصر الأساسية في الخريطة.....
- 6- من العناصر الأساسية في الخريطة.....

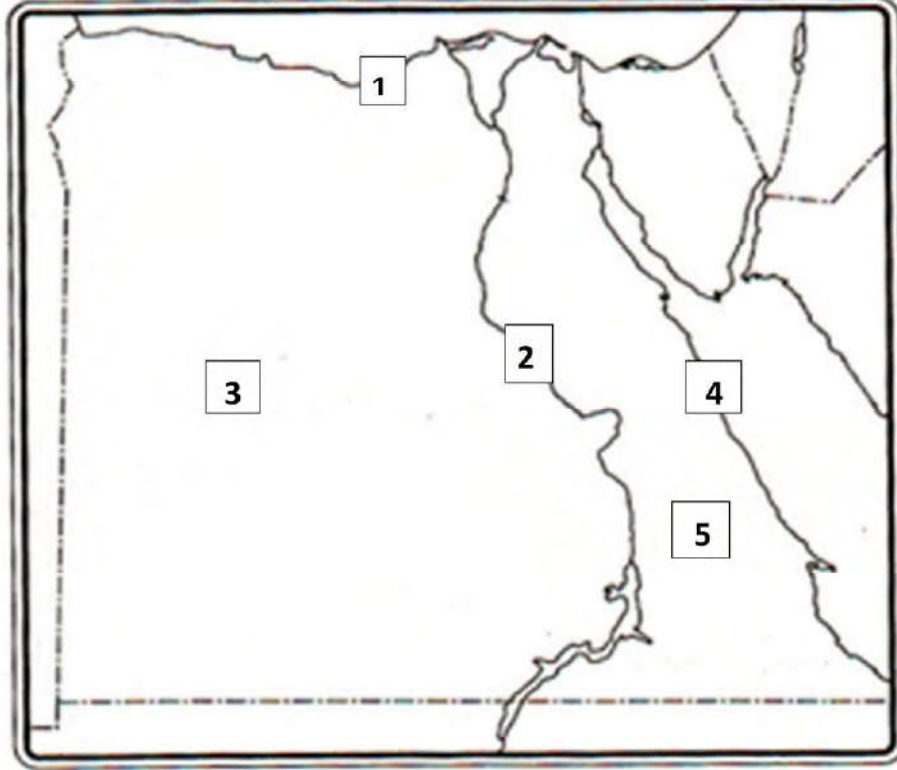
السؤال الرابع: أمامك خريطة صماء لمصر، اكمل ما تشير الية الأرقام الآتية:-



- 1- البحر.....
- 2- البحر.....
- 3- دولة.....
- 4- دولة.....
- 5- قناة.....
- 6- قناة.....
- 7- خليج.....
- 8- خليج.....
- 9- محافظة.....
- 10- اكبر المحافظات في مصر.....
- 11- اصغر المحافظات في مصر.....



السؤال الخامس : أمامك خريطة صماء لمصر ، اكمل ما تشير الية الأرقام الآتية :-



- 1- بينة
- 2- بينة
- 3- بينة
- 4- بينة
- 5- بينة




السؤال السادس: اكمل المخطط التالي:-

الاتجاهات الاصلية



الاتجاهات الفرعية



الوحدة الثانية

جمال أرضنا

الدرس الأول

مصر بلد تتنوع فيها المظاهر الطبيعية، فإذا انطلقت من مدينة أسوان جنوباً متجهاً نحو القاهرة شمالاً، فسوف تشاهد:

**1 - نهر النيل:**

يوجد على جانبيه السهول الفيضية الخصبة التي ساعدت على قيام الزراعة منذ القدم.

2 - الصحراء الشرقية:

تقع شرق نهر النيل تتميز بصخورها الصلبة وجبالها الشاهقة وهضابها العالية، وجوارها البحر الأحمر الذي تجد فيه العديد من الجزر.

3 - شبه جزيرة سيناء:

تقع بين خليجي السويس والعقبة ويطلق عليها (أرض الفيروز).

4 - الصحراء الغربية:

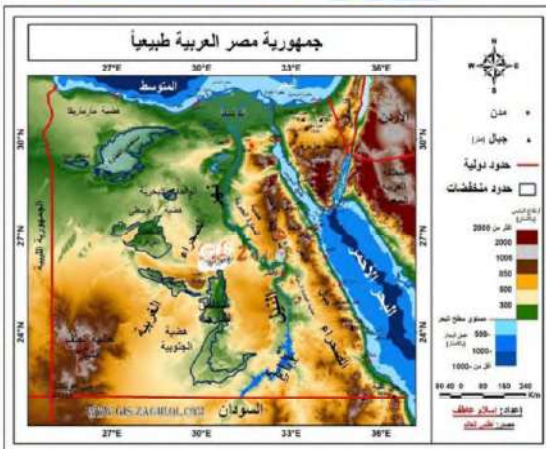
تقع غرب نهر النيل، تتميز بوجود صحراء ذات رمال صفراء وهضاب ومنخفضات. كل هذه المظاهر الطبيعية يتم تمثيلها على خريطة تبين مستوى ارتفاع أجزاء مختلفة من الأرض باستخدام ألوان متعددة يلون ارتفاع كل منطقة بلون محدد:

اللون الأخضر:

الأخضر الفاتح يدل على المناطق المنخفضة مثل: **السهول**

ويتدرج اللون حتى يصل إلى اللون **الأخضر الغامق**

ليدل على الأماكن الأكثر انخفاضاً مثل: **المنخفضات**.



اللون البني:

البنّي الفاتح يدل على المناطق المرتفعة. **مثل: الهضاب.**
يتدرج اللون حتى يصل إلى اللون **البنّي الغامق** ليدل على الأماكن الأكثر ارتفاعاً **مثل: الجبال.**

تعلم أن...

أكمل العبارة الآتية بكلمات صحيحة:-

- 1) **السهول الفيضية** الخصبة علي جانبي نهر النيل ساعدت علي قيام **حرفة الزراعة.**
- 2) يتميز **البحر الاحمر** بوجود العديد من الجزر.

فكر واجب...

أكمل العبارة الآتية بكلمات صحيحة:-

- 1) يطلق علي شبه جزيرة سيناء ارض
- 2) اللون البني علي الخريطة يدل علي الاماكن الاكثر ارتفاعاً مثل.....

تتنوع مظاهر سطح مصر حيث نجد:**الأراضي المرتفعة:**

- 1 - الجبل
- 2 - التل.
- 3 - الهضبة.

الأراضي الأقل ارتفاعاً:

- 1 - السهل الفيضي.
- 2 - السهل الساحلي.

الأراضي المنخفضة عن مستوى سطح البحر:

المنخفضات.

أولاً: الأراضي المرتفعة:

- 1 - **الجبل:** هو أرض شديدة الارتفاع ولها قمة وجوانبها شديدة الانحدار **مثل: جبل سانت كاترين.**

- 2 - **التل:** هو أرض مرتفعة قليلاً ولها قمة يقل ارتفاعها عن 1000 متر **مثل: تلال المقطم شمال القاهرة.**



جبل



تل



هضبة

3 - الهضبة: هي مساحة واسعة من الأرض مرتفعة مستوية أو شبه مستوية السطح
مثل: هضبة الجلف الكبير في الصحراء الغربية.

ثانياً: الأراضي الأقل ارتفاعاً:

1 - السهل الفيضي: هو مساحة من الأرض مستوية قليلة الارتفاع وتتكون من رواسب الأنهار

مثل: الأراضي على جانبي نهر النيل.



السهل الفيضي

2 - السهل الساحلي: وهو مساحة من الأرض مستوية تمتد على طول ساحل البحر

مثل: سواحل البحرين الأحمر والمتوسط.



السهل الساحلي



ثالثاً: الأراضي المنخفضة:

المنخفض: هو أرض منخفضة عن مستوى سطح البحر

مثل: منخفض القطارة.



منخفض

وتوجد أيضاً أشكال سطح أخرى مختلفة منها:

1 - الجزيرة: وهي أرض تحيط بها المياه من جميع الجهات

مثل: جزيرة شدوان في البحر الأحمر.



جزيرة

2 - شبه الجزيرة: وهي مساحة من اليابس تحيط بها المياه

من ثلاث جهات

مثل: شبه جزيرة سيناء.



شبه جزيرة



تعلم أن ...

ضع علامة (صح) امام العبارة الصحيحة وعلامة (خطأ) امام العبارة غير الصحيحة:-

- (1) تلال المقطم توجد جنوب مدينة القاهرة. (خطأ)
- (2) تتكون السهول الفيضية من رواسب الانهار. (صح)

فكر واجب...

اختر الاجابة الصحيحة مما بين القوسين:-

- (1) توجد هضبه في الصحراء الغربية.
(العجمة - الجلف الكبير - التيه - التبت)
- (2) من أمثله المنخفضات المصرية منخفض
(الدلتا - العوينات - سانت كاترين - القطارة)

المسطحات المائية المختلفة المساحة

1 - **البحر**: مساحة من المياه المالحة أقل من المحيط

مثل: البحر الأحمر، البحر المتوسط.



نهر النيل

2 - **النهر**: مجرى مائي عذب.

مثل: نهر النيل.

3 - **البحيرة**: مساحة صغيرة من المياه يحيط بها اليابس من جميع الجهات،

قد تكون **عذبة** مثل: بحيرة ناصر، أو **مالحة** مثل: بحيرة البرلس.



بحيرة

تعلم أن...

اكتب ما تشير اليه العبارة مما يلي:-

(نهر النيل)

1) مجري مائي عذب.

(البحيرة)

2) مساحة صغيرة من المياه يحيط بها اليابس من جميع الجهات.

فكر واجب...

ضع علامة (صح) امام العبارة الصحيحة وعلامة (خطأ) امام العبارة غير الصحيحة:-

()

1) من البحيرات العذبة في مصر بحيرة البرلس.

()

2) تكون منخفض القطارة عن طريق التعرية الهوائية.

" نشاط (1) "**انظر الى كل صورة وصلها بالتعريف المناسب لها :-**

	<p>ارض شديدة الارتفاع ولها قمه وجوانبها شديدة الانحدار.</p>
	<p>مساحة من اليابس تحيط بها المياه من ثلاث جهات.</p>
	<p>مساحة صغيرة من الماء يحيط بها اليابس من جميع الجهات.</p>
	<p>مساحة من الارض مستويه تمتد علي طول ساحل البحر.</p>
	<p>مساحة من اليابس تحيط بها المياه من ثلاث جهات.</p>

"واجب منزلي"

السؤال الأول: اكمل العبارات الآتية بما يناسبها من كلمات مما بين القوسين:

(شبه الجزيرة - أقل - سانت كاترين - شرق)

- 1 - البحر هو مساحة من الماء المالح..... من المحيط.
- 2 - تحيط بها المياه من ثلاث جهات.
- 3 - الصحراء الشرقية تقع النيل.
- 4 - من أمثلة الجبال التي توجد في مصر جبل.....

السؤال الثاني: ضع دائرة حول الإجابة الصحيحة مما يلي:

1 - أي من البحيرات التالية يوجد بها مياه عذبة.....

- أ (بحيرة ناصر.)
 ب (بحيرة إدكو.)
 ج (بحيرة البرلس.)
 د (بحيرة قارون.)

2 - بحيرة البرلس تقع في الجهة..... من مصر.

- أ (الشمالية.)
 ب (الجنوبية.)
 ج (الشرقية.)
 د (الغربية.)

3 - المنطقة التي تقع بين خليجي السويس والعبقة هي

- أ (شبه جزيرة سيناء.)
 ب (جزيرة شدوان.)
 ج (شبه الجزيرة العربية.)
 د (جزيرة الذهب.)

السؤال الثالث : صوب ما تحته خط :

- 1- النهر هو مجري مائي مالح
- 2- السهول الفيضية تمتد علي طول ساحل البحر
- 3- تلال المقطم توجد بمحافظة الشرقية
- 1- منخفض القطارة أعلى من مستوي البحر

الطقس و المناخ

الدرس الثاني

وصف الطقس والمناخ :

الطقس: وصف حالة الجو من حيث الحرارة والرياح والأمطار لفترة زمنية قصيرة ، يوم أو أسبوع أو شهر.

المناخ: وصف حالة الجو من حيث الحرارة والرياح والأمطار لفترة زمنية طويلة ، فصل أو سنة.

مناخ مصر مقارنة بمناخ إفريقيا:

(سيراليون)

المناخ : الاستوائي

مناخ حار وممطر
طوال العام.

(مالوي)

المناخ : مداري حار

مناخ دافئ وممطر
بشكل عام في الصيف،
جاف وبارد في الشتاء.

(مصر)

المناخ : صحراوي حار

في معظم الأراضي
المصرية فهو معتدل
وممطر في الشتاء وحار
جاف في الصيف.



خريطة مناخ افريقيا

تعلم ان...

أى من الجمل التالية تصف حاله الطقس وايهما تصف حاله المناخ:-

- (1) في الاسبوع القادم اتوقع هطول امطار غزيرة. (الطقس)
 (2) غالباً ما يكون فصل الصيف جاف وحرار في مصر. (المناخ)

فكر واجب...

أى من الجمل التالية تصف حاله الطقس وايهما تصف حاله المناخ:-

- (1) كان الشهر الماضي بارداً علي غير عاداته من كل سنه. (.....)
 (2) يعتمد عليه المصريين في تحديد نوع المحاصيل الزراعية. (.....)
 (3) السماء اليوم صافية مع درجات الحرارة عالية تقترب من 40 درجة مئوية. (.....)

أدوات قياس عناصر الطقس:

- 1 - تقاس درجة الحرارة بـ ميزان الحرارة (الترمومتر).
 2 - تقاس كمية المطر بـ مقياس المطر.



- 3 - تحديد اتجاه الرياح بـ دارة الرياح أو جورب الرياح.
 4 - تقاس سرعة الرياح بـ الأنيمومتر.





القمر الصناعي حول الارض



برامج الهاتف المحمول

دور التكنولوجيا في قياس عناصر الطقس:1 - الأقمار الصناعية:

هناك أقمار صناعة خاصة بالطقس تدور حول الأرض تستخدم في جمع بيانات دقيقة عن عناصر الطقس.

2 - محطات الأرصاد الجوية:

- يقوم خبراء الأرصاد في محطات الأرصاد الجوية بتجميع البيانات وتحليلها باستخدام الكمبيوتر.
- توقع الأحوال الجوية في المستقبل القريب.
- تمثيل البيانات الخاصة بعناصر الطقس، والمناخ على خرائط الطقس مثل: خريطة درجة الحرارة العظمى والصغرى في المدن الكبرى.

3 - برامج الهاتف المحمول:

يمكنك تحميل أحد البرامج الخاصة بالطقس على جهاز التلفزيون المحمول والذي يحدد لك حالة الطقس بالرسوم المتحركة والخرائط التفاعلية.

تعلم أن...

أكمل العبارات الآتية:-

- (1) الترمومتر يستخدم في قياس درجات الحرارة.
- (2) يمكننا قياس سرعة الرياح بـ انيمومتر.

فكر واجب...

اختر الاجابة الصحيحة مما بين القوسين:-

- (1) يمكن توقع الاحوال الجوية في المستقبل القريب من خلال.....
(الانيمومتر - جوارب الرياح - ميزان الحرارة - الأقمار الصناعية)
- (2) من ادوات تحديد اتجاه الرياح.....
(الترمومتر - مقياس المطر - الانيمومتر - جوب الرياح)

وتوجد في مصر (الهيئة العامة للأرصاد الجوية المصرية) ويتبعها عدد كبير من محطات الأرصاد الجوية في محافظات مصر.

وهناك العديد من الأنشطة التي تستفيد من خدمات الأرصاد الجوية مثل:

- 1 - صيد الأسماك.
- 2 - الزراعة.
- 3 - الاتصالات.
- 4 - النقل البري والبحري والجوي.
- 5 - الصناعة.
- 6 - السياحة.



تعلم ان...

أكمل العبارات الآتية:-

- 1) من الأنشطة التي تستفيد من خدمات الأرصاد الجوية الزراعة و الصناعة.
- 2) توجد في مصر (الهيئة العامة للأرصاد الجوية المصرية) ويتبعها عدد كبير من محطات الأرصاد الجوية.

فكر واجب...

ضع علامة (✓) أمام العبارة الصحيحة و علامة (x) أما العبارة غير الصحيحة:-

- 1) الهيئة العامة للأرصاد الجوية المصرية يتبعها عدد كبير من محطات الأرصاد الجوية في المحافظات. ()
- 2) صيد الاسماك من الأنشطة التي تستفيد من خدمات الأرصاد الجوية. ()

" نشاط (1) "

انظر الى كل صورة وصلها بالاستخدام المناسب لها :-

	تحديد اتجاه الرياح
	قياس درجة الحرارة
	قياس سرعة الرياح
	قياس كمية المطر



" اعمال صفية "

أكمل العبارات الاتية بما يناسبها من كلمات مما بين القوسين :

(الحرارة - الشتاء - الانيمومتر - الجو - الصحراوي)

- 1-معظم الاراضي المصرية يسودها المناخ
- 2- يمكننا قياس سرعة الرياح ب
- 3- الامطار تسقط علي مصر في فصل
- 4- الطقس والمناخ كلاهما يصف حالة
- 5- الترمومتر يستخدم في قياس درجات

" الواجب المنزلي "**السؤال الأول: ضع علامة (√) أمام العبارة الصحيحة و علامة (x) أما العبارة غير الصحيحة:**

- 1 - سيراليون يتصف مناخها بأنه مداري مطير. ()
- 2 - قارة إفريقيا يسود جميع أجزائها المناخ المداري الحار فقط. ()
- 3 - دورة الرياح تستخدم لتحديد اتجاه الرياح. ()
- 4-معرفة المناخ السائد تساعدنا في اتخاذ قراراتنا اليومية ()
- 5- النقل البحري يستفيد من خدمات الارصاد الجوية ()
- 6- البرامج الخاصة بحالة الجو علي التليفون المحمول تصف المناخ ()

السؤال الثاني: اختر الإجابة الصحيحة مما يلي:

- 1 - الأنيمومتر جهاز يساعد على قياس.....
أ) كمية المطر. ب) سرعة الرياح.
ج) درجة الحرارة. د) اتجاه المطر.
- 2 - يمكن توقع الأحوال الجوية في المستقبل القريب من خلال.....
أ) الأنيمومتر. ب) جوارب الرياح.
ج) ميزان الحرارة. د) الأقمار الصناعية.
- 3 - الطقس والمناخ يختلفان في.....
أ) درجات الحرارة. ب) سرعة الرياح.
ج) كمية المطر. د) الفترة الزمنية.
- 4-الرابط بين مفهوم الطقس والمناخ هو معرفة.....
أ) حالة الجو ب) النشاط الاقتصادي
ج) أنواع التضاريس د) فصول السنة

**السؤال الثالث: صوب ما تحته خط:**

- 1- الأقمار الطبيعية لها دور في قياس عناصر الطقس.
- 2- خرائط درجات الحرارة العظمي والصغرى بالمدن الكبرى تعرف بخرائط المناخ.
- 3- مناخ مصر معتدل وممطر في الصيف.

البيئات المصرية ومواردها

الدرس الثالث

أنواع البيئات المصرية

تتنوع البيئات في مصر حيث يوجد

- 1) **البيئة الصحراوية**: تضم **الصحراء السوداء والصحراء البيضاء** والجبال العالية التي يصل ارتفاعها الي 2629 متراً.
- 2) **البيئة الزراعية**: تضم نهر النيل **أطول أنهار العالم**.
- 3) **البيئة الساحلية**: تضم سواحل تتميز بمظاهرها الخلابة.



الخصائص الطبيعية للبيئات المصرية

أولاً البيئة الصحراوية

تمثل معظم مساحة مصر:

توجد في	خصائصها
✓ الصحراء الغربية.	تنتشر بها
✓ الصحراء الشرقية.	1- المنخفضات والكثبان الرملية مثل بحر الرمال العظيم في الصحراء الغربية.
✓ شبه جزيرة سيناء.	2- الجبال والرمال الذهبية في الصحراء الشرقية وشبه جزيرة سيناء.



بعض الظواهر الصحراوية



الصحراء السوداء



الصحراء البيضاء



الكثبان الرملية

" في الصحراء الغربية "

الكثبان الرملية : تجمعات كبيرة من الرمال مثل **بحر الرمال العظيم**.

الصحراء البيضاء : يغطيها اللون الأبيض وتعتبر متحف لدراسة المظاهر التضاريسية والحفريات والحياة البرية.

الصحراء السوداء : تتميز بوجود الجبال والهضاب المغطاة باللون الأسود بسبب بقايا الانفجارات البركانية التي جفت علي مدي ملايين السنين.

الواحات : التي تتميز بوجود مياه الابار .

تعلم أن...

بم تفسر..؟

- 1) تنوع البيئات المصرية. بسبب مساحة مصر الكبيرة وموقعها الجغرافي ومظاهر السطح المتعددة.
- 2) سبب تسمية الصحراء السوداء بهذا الاسم. لأن سطحها مغطي باللون الاسود بسبب بقايا الانفجارات البركانية التي جفت علي مدي ملايين السنين.

فكر واجب...

أكمل العبارات الآتية بما يناسبها من كلمات مما بين القوسين:-

(الصحراوية – مساحتها – الغربية)

- 1) تتنوع البيئات في مصر بسبب اتساع
- 2) تشغل معظم مساحة مصر البيئة
- 3) الصحراء البيضاء في مصر جزء من الصحراء

ثانياً البيئة الزراعية

توجد في	خصائصها
<ul style="list-style-type: none"> ✓ دلتا النيل ✓ وادي النيل 	<ul style="list-style-type: none"> • تربة خصبة تزرع فيها جميع المحاصيل الصيفية والشتوية. • تتميز باستواء السطح. • تعتمد علي مياه نهر النيل في جميع مجالات الحياه.

نهر النيل:-

- يجري نهر النيل في الأراضي المصرية من الجنوب الي الشمال ليصب في البحر المتوسط
- يوجد على نهر النيل جنوباً :



السد العالي

- ١- **السد العالي** جنوب نهر النيل بأسوان والذي يخزن المياه لري الأراضي الزراعية علي مدار العام.
- ٢- **بحيرة ناصر** توجد امام السد العالي وتعتبر من أكبر البحيرات الصناعية في العالم ويوجد بها الكثير من الأسماك.

ثالثاً البيئة الساحلية

توجد في	خصائصها
<ul style="list-style-type: none"> ✓ ساحل البحر الأحمر. ✓ ساحل البحر المتوسط. 	<ul style="list-style-type: none"> • أرض شبه مستوية تكون واسعة عند البحر المتوسط وضيقة عند البحر الأحمر بسبب اقتراب الجبال من الساحل. • تنتشر بها الشعاب المرجانية.



أهمية الشعاب المرجانية :-

- تنتشر علي طول ساحل البحر الاحمر وخليجي العقبة والسويس.
- تتميز الشعاب المرجانية بمناظرها وألوانها الخلابة التي تجذب السياح.

بم تفسر..؟

- ضيق السواحل عند البحر الاحمر.
- بسبب اقتراب الجبال من الساحل.

فكر واجب...

ضع علامة (√) أمام العبارة الصحيحة و علامة (x) أما العبارة غير الصحيحة:-

- () تنتشر الشعاب المرجانية في البحر الاحمر.
- () السد العالي يوجد في شمال نهر النيل.
- () بحيرة ناصر اصغر بحيرة صناعية في العالم.

" نشاط (1) "

صنف الي أي بيئة تنتمي الكلمات الآتية :-

- الصحراء البيضاء ← بيئة.....
- نهر النيل ← بيئة.....
- بحر الرمال العظيم ← بيئة.....
- الشعاب المرجانية ← بيئة.....

" اعمال صفية "

(1) ضع علامة (✓) أمام العبارات الصحيحة أو علامة (x) أما العبارات غير الصحيحة:-

- () 1 توجد الكثبان الرملية في الصحراء الشرقية مثل بحر الرمال العظيم.
- () 2 تضم البيئة الزراعية في مصر كل من سينا وسواحل البحر المتوسط.
- () 3 تم انشاء بحيرة قارون امام السد العالي لتخزين المياه.
- () 4 يتسم سطح البيئة الساحلية بأنه شبه مستوي.

" الواجب المنزلي "

(1) اختر الإجابة الصحيحة مما بين القوسين:-

- 1 يوجد بحر الرمال العظيم في البيئة
(الساحلية - الصحراوية - الصناعية - الزراعية)
- 2 ينسب اللون الاسود في الصحراء السوداء الي الانفجارات.....
(البركانية - الحربية - الزلزالية - الشمسية)
- 3 تتميز اراضي البيئة الزراعية بسطح
(منخفض جدا - منخفض - مستوي - مرتفع)
- 4 تنتشر الشعاب المرجانية في مناطق سواحل
(نهر النيل - بحيرة ناصر - البحر الأحمر - البحر المتوسط)

(2) أكمل الجمل التالية:-

- 1 تعد بحيرة من اكبر البحيرات الصناعية في العالم.
- 2 تضيق مساحة البيئة الساحلية عند البحر بسبب اقتراب الجبال.
- 3 تعتمد البيئة الزراعية على مياه.....



نحو حياة مستدامة في بلدنا

الدرس الرابع

الموارد الطبيعية
: هي الموارد التي خلقها الله لنا لتساعدنا علي الحياة ونستخدمها في اشباع حاجاتنا من مأكّل ومشرب ومسكن وملبس.

تنوع البيئات المصرية: أدي الي تنوع الموارد الطبيعية وبالتالي تنوع الأنشطة الاقتصادية.
النشاط الاقتصادي: هو العمل او الحرفة التي يقوم بها الانسان لاستغلال الموارد الطبيعية للإشباع حاجته.
الموارد الطبيعية في مصر مثل:

(الماء - الهواء - الشمس - التربة - الحيوان - النبات - اسماك - نباتات طبيعية - رمل اسود - حديد - بترول وغاز طبيعي - منجنيز - ذهب - نحاس - ملح - تتالوم - فوسفات - فحم)



تعلم أن....

ما النتائج المترتبة على:-

- تنوع البيئات المصرية.
- ادي ذلك الي تنوع الموارد الطبيعية وبالتالي تنوع الأنشطة الاقتصادية.

فكر واجب...

أكمل العبارات الآتية بكلمة صحيحة:-

- (1) من انواع الموارد الطبيعية الماء و و
- (2) تنوع الموارد الطبيعية ادي الي تنوع

أولاً الموارد المائية

تتنوع الموارد المائية في مصر:-

المياه العذبة

- نهر النيل
- مياه الامطار الشتوية

المياه المالحة

- البحر المتوسط
- البحر الأحمر وخليجي السويس والعقبة
- البحيرات المالحة الشمالية مثل:
(البردويل - المنزلة - البرلس - ادكو - مريوط)



خريطة البحيرات المالحة الشمالية

المياه الجوفية العذبة

هي المياه التي تستخرج من باطن الأرض وتنتشر

في :

- الصحراء الغربية في الواحات
- بعض المناطق في شبه جزيرة سيناء


الواحات : هي أراضي منخفضة بالصحراء تقوم بها الزراعة على المياه الجوفية.
أهمية الواحات : تساعد على قيام الزراعة في البيئة الصحراوية وتركز السكان حولها.



خريطة الواحات المصرية

الموارد النباتية

ثانياً



اختص الله الصحاري المصرية بثروة هائلة من النباتات الطبية والعطرية.

أهمية الثروة النباتية:

- (1) لها قيمة اقتصادية.
- (2) تدخل في صناعة الأدوية والعطور والصابون ومستحضرات التجميل مثل الصبار و الخروع.
- (3) استخدمها المصريون القدماء منذ القدم.

استخدام المصريين القدماء للنباتات الطبية



نبات الخروع



نبات الصبار

تعلم أن...

بم تفسر...؟

- (1) أهمية المياه الجوفية العذبة في البيئة الصحراوية. ساعدت علي قيام الزراعة في البيئة الصحراوية وتركز السكان حولها.
- (2) أهمية بعض النباتات بالبيئة الصحراوية مثل الصبار. يدخل في صناعة الأدوية والعطور والصابون ومستحضرات التجميل.

الموارد المعدنية ومصادر الطاقة

ثالثاً



تتنوع الموارد المعدنية ومصادر الطاقة في مصر: (المعادن - الرمال - مصادر الطاقة)

المعادن

1

تنتشر في:

١- الصحراء الغربية (الحديد - الفوسفات)

٢- الصحراء الشرقية (النحاس - الذهب)

٣- شبه جزيرة سيناء (المنجنيز - النحاس - التتالوم)

أهمية الثروة المعدنية

• ساعدت علي قيام الصناعات مثل الحديد والصلب والخلي والصواريخ.



مناطق استخراج المعادن

الرمال

2

الرمال السوداء

الرمال البيضاء

تنتشر على ساحل البحر المتوسط من العريش شرقا الي رشيد غربا :
تأخذ اللون الأسود لأنها تكونت من رواسب النيل.
تحتوي علي معادن اقتصادية تدخل في صناعة الخزف.



تنتشر في الصحاري المصرية :
تعد من أجود أنواع الرمال في العالم بسبب نقائها.
تستخدم في صناعة الزجاج والخلايا الشمسية.





الخلايا الشمسية

3 مصادر الطاقة



البترولي



النفط



الفحم

- **البترولي والغاز الطبيعي** ينتشر في (الصحاري المصرية - خليج السويس)
- **الفحم** ينتشر في (شمال شبه جزيرة سيناء)
- **الرياح والشمس** تسطع الشمس معظم ايام السنة في مصر.

تعلم أن...

ما النتائج المترتبة على...؟

- (1) وجود كثير من المعادن في مصر. ساعدت علي قيام الصناعات مثل الحديد والصلب والخلي والصواريخ.
- (2) توفر الرمال البيضاء بالصحاري المصرية. استخدمت في صناعة الزجاج والخلايا الشمسية.

فكر واجب...

بم تفسر....؟

(1) اهمية المعادن.

ما المقصود بـ : التنمية المستدامة

هي استخدام الموارد المتاحة بحيث تلبى احتياجات المواطنين الحالية مع الحفاظ على حق الأجيال القادمة في هذه الموارد.

- قامت الدولة بالعديد من المشروعات للاستفادة من الموارد الطبيعية لتحقيق التنمية المستدامة مثل مشروع ١٠٠٠٠٠ صوبة زراعية في مصر.

ما المقصود بـ : الصوبات الزراعية

خيم مصنوعة من مواد شفافة منفذه لأشعة الشمس ويمكن التحكم في درجة حرارتها وتزرع فيها الخضروات والفاكهة.

أهداف الصوبات الزراعية

- ١- زيادة إنتاج الخضروات والفاكهة لتلبية احتياجات المواطنين نتيجة الزيادة السريعة في السكان.
- ٢- استخدام مساحة اقل من الأراضي الزراعية وكمية قليلة من المياه العذبة.
- ٣- توفير فرص عمل أكثر من ربع مليون مصري.
- ٤- زيادة الصادرات من المحاصيل الزراعية وزيادة الدخل.

المشكلات البيئية في بلدنا

التلوث : هو حدوث تغييرات لبعض الموارد الطبيعية فتصبح غير صالحة للاستخدام البشري.

اسبابه : سوء استخدام الموارد البيئية المختلفة.

نتائجه : الاضرار بالموارد الطبيعية وتهديد صحة الانسان وحياة الكائنات الحية.

أهميته : اهم الموارد لحياتنا

الهواء

أسباب تلوث الهواء:

- 1- دخان المصانع.
- 2- عوادم السيارات.
- 3- حرق قش الأرز في **البيئة الزراعية**.

النتائج المترتبة علي تلوث الهواء

- 1- نتيجة حرق قش الأرز زادت نسبة تلوث الهواء وتكونت السحابة السوداء
- 2- انتشار مواد كيميائية خطيرة في الهواء تؤدي الي اصابة الأفراد بالأمراض وخاصة المدن المزدحمة مثل القاهرة.



حرق قش الارز



عوادم السيارات



دخان المصانع

التربة

أهميتها: مهمة لزراعة المحاصيل

أسباب تلوث التربة.

- 1- الاسراف في استخدام الأسمدة الكيميائية لزيادة خصوبة التربة.
- 2- استخدام المبيدات الحشرية لقتل الآفات الضارة بالمحاصيل.



استخدام الاسمدة الكيميائية في التربة

المياه

أهميتها: هي سر الحياة على سطح الأرض

أسباب تلوث المياه.

- 1-لقاء مياه الصرف الصحي والزراعي الملوثة بالأسمدة والمبيدات الحشرية.
- 2-لقاء نفايات المصانع.
- 3-لقاء النفايات من المواد البلاستيكية مثل الزجاجات والاكياس التي تتحلل الي اجزاء صغيره في المياه.

نتائجه: يؤثر علي صحة الانسان ويضر بالكائنات البحرية

ملحوظة: البحر المتوسط اكثر بحار العالم تلوثاً.



تلوث المياه

تعلم أن...

أكمل العبارات الآتية بكلمات مناسبة:-

- 1) البحر المتوسط أكثر بحار العالم تلوثاً.
- 2) حرق قش الارز يؤدي الي تكون السحابة السوداء.

فكر واجب...

اختر الإجابة الصحيحة مما بين القوسين:-

- 1- البيئة المصرية التي تنتشر بها مشكلة حرق قش الارز هي
(البيئة الزراعية - البيئة الساحلية - البيئة الصناعية - البيئة الصحراوية)
- 2- تتلوث مياه نهر النيل نتيجة.....
(حرق قش الارز - الصرف الزراعي - دخان المصانع - دخان السيارات)
- 3- تتعرض التربة للتلوث نتيجة الاسراف في استخدام
(الاسمدة العضوية - الاسمدة الكيماوية - مياه الصاف الصحي)

جهود الدولة لتأمين كميات أكبر من المياه للمواطنين:-

1- تحلية مياه البحر

تعتمد علي الحرارة لفصل الاملاح عن المياه وتكون صالحة للشرب والاستخدام البشري.



2- إعادة تدوير مياه الصرف الصحي

يتم معالجتها لتصبح صالحة للزراعة في الحدائق العامة.

تعلم أن...

اذكر جهود الدولة لتأمين كميات أكبر من المياه للمواطنين؟

قامت الدولة بتحلية مياه البحر و إعادة تدوير مياه الصرف الصحي..

فكر واجب...

أكمل العبارة الآتية بكلمات مناسبة:-

- من جهود الدولة للحفاظ علي المياهو.....

" نشاط (1) "

صنف الموارد التالية حسب نوعها في الجدول التالي:-

(نهر النيل - الحديد - البترول - البحر الاحمر - المنجنيز - الفحم)



مصادر طاقة	موارد معدنيه	موارد مائية
.....
.....

" نشاط (2) "

أكتب اسفل كل صورة من الصور الاتية الي أي نوع تلوث تنتمي هذه الصورة :-



" اعمال صافية "

(1) اختر الإجابة الصحيحة مما بين القوسين :-

- 1) ينتشر في الصحراء الشرقية معدن
(الحديد - الفوسفات - الذهب - المنجنيز)
- 2) تقوم حرفة الزراعة على المياه الجوفية في
(وادي النيل - الصحراء الغربية - منخفض الفيوم - الدلتا)
- 3) تدخل الرمال البيضاء في صناعات كثيرة مثل.....
(الخزف - البويات - الزجاج - الحلي)
- 4) تمتلك مصر مصادر متعددة لتوليد الطاقة مثل
(الشمس - الحديد - الفوسفات - النحاس)

" واجب منزلي "

(1) أكمل الجمل التالية :-

- (1) نهر النيل وفرعاه من موارد المياه
- (2) نستخدم نبات الصبار والخروع في صناعةو.....
- (3) تنتشر مناجم الفوسفات في الصحراء
- (4) تؤدي عوادم السيارات الي تلوث
- (5) استخدام الأسمدة الكيميائية يؤدي الي تلوث
- (6) تعد مشكلة من المشكلات البيئية في محافظتك.
- (7) تلوث المياه يسبب ضررا للكائنات الحية ويؤثر علي صحة.....

(2) ضع علامة (✓) أمام العبارات الصحيحة أو علامة (*) أمام العبارات غير الصحيحة:-

- () (1) نهر النيل من موارد المياه المالحة في مصر
- () (2) يستخدم الخروع في صناعة بعض انواع الادوية ومستحضرات التجميل
- () (3) تنتشر مناجم الحديد في الصحراء الشرقية
- () (4) - تؤدي المشكلات البيئية الي الاضرار بالكائنات الحية
- () (5) تقل نسبة تلوث الهواء في القاهرة
- () (6) يؤثر حرق قش الأرز على البيئة الزراعية والمدن المجاورة لها
- () (7) كلما زاد السكان في المدينة زادت نسبة تلوث الهواء بها
- () (8) هم القاء مياه الصرف الزراعي يلوث التربة

" شخصيات مؤثرة "

الدرس الخامس

جمال حمدان



كان عالما جغرافيا وكاتبا معروفا بحبه لوطنه مصر .

مولده : ولد في **محافظة القليوبية** عام ١٩٢٨م

اهتم بـ

- دراسة مصر فكتب عن موقعها وخصائصها الجغرافية والتاريخية وحضاراتها.
- دراسة الجوانب السياسية والاقتصادية والاجتماعية لمصر ودورها في تشكيل شخصية مصر .

أهم أعماله :

- ألف أكثر من ٢٥ كتاب باللغة العربية والانجليزية.

- أشهر كتبه كتاب " شخصية مصر " الذي احتاج الي ١٠ سنوات من الجهد حيث نشر عام ١٩٨٠م ما يدل علي مثابرتة لتحقيق هدفه.
- حصل علي : العديد من الجوائز . وتم اختياره شخصية معرض القاهرة للكتاب الـ 51 عام ٢٠٢٠ تقديرا لجهوده
- وفاته: توفي عام ١٩٩٣م.



سيد درويش

كان مطربا وملحنا ولقب بـ " أبو الموسيقى الشعبية"

مولده : ولد في **الاسكندرية** في حي كوم الدكة عام ١٨٩٢م.

حياته :

- عمل في شبابه بالبناء ليوفر المال لأسرته
- عشق الموسيقى العربية القديمة ومزجها بالفن الشعبي المصري (الفولكلور) و الآلات الموسيقية الغربية ليؤلف الحانا مهمة تجمع بين الأصالة والمعاصرة
- اشتهرت موسيقاه بسبب موضوعاتها الاجتماعية والوطنية

أفكاره :

- كان سيد درويش يري أن الموسيقى وسيلة للتعبير عن المشاعر وليست فقط للترفيه.
- قال عنه الموسيقار **محمد عبدالوهاب** " سيد درويش هو الذي جعلني أستمع للغناء بحسي وعقلي "

أعماله :

- ألف ولحن الكثير من الاغاني مثل " قوم يا مصري - أنا المصري كريم العنصرين "
- يعد لحن **نشيد بلادي بلادي** أشهر أعماله.
- وفاته : توفي عام ١٩٢٣م

تعلم أن...

أكمل العبارات الآتية بكلمات مناسبة:-

- (1) ألف جمال حمدان أكثر من **٢٥ كتاب** باللغة العربية والانجليزية.
- (2) ولد سيد درويش في **الاسكندرية** في حي **كوم الدكة** عام ١٨٩٢م.

فكر واجب...

أكمل العبارات الآتية بكلمات مناسبة:-

- (1) لقب الملحن سيد درويش بـ
- (2) أشهر كتب جمال حمدان كتاب

" نشاط (1) "صل كل عمل من الاعمال الاتيه بالشخصية المناسبة:-

- عمل في شبابه بالبناء ليوفر المال لأسرته.
- كان عالما جغرافيا وكاتبا معروفا بحبه لوطنه مصر.
- تكلم عنه الموسيقار محمد عبدالوهاب.
- حصل علي العديد من الجوائز وتم اختياره شخصية معرض القاهرة.

" اعمال صفة "اختر الاجابة الصحيحة مما بين القوسين :-

- (1) ولد سيد درويش في محافظة.....
(الاسكندرية - شمال سيناء - المنوفية - الدقهلية)
- (2) أبو الموسيقى الشعبية المصرية هو.....
(محمد يونس القاضي - عمار الشريعي - سيد درويش - محمد فريد)
- (3) جمال حمدان صاحب كتاب شخصية مصر هو عالم.....
(جغرافي - كيميائي - فيزيائي - رياضيات)

" الواجب المنزلي "س1 : أكمل العبارات الاتية بكلمة مناسبة :-

- (1) من اشهر اعمال سيد درويش تلحين المصري.
- (2) ولد سيد درويش في حي بمحافظة عام 1892م.

- (3) من أشهر مؤلفات جمال حمدان كتاب
- (4) ولد العالم المصري جمال حمدان في محافظة عام 1892م.
- س2 : قارن بين جمال حمدان و سيد درويش من حيث (أهم اعمال كل واحد - المحافظة التي ولد فيها - المجال الذي نبغ فيه)**

المجال الذي نبغ فيه	المحافظة التي ولد بها	أهم الاعمال	جمال حمدان
			سيد درويش

اختبار (2)

السؤال الاول: ضع علامة (صح) أمام العبارات الصحيحة أو علامة (خطأ) أمام العبارات غير الصحيحة:-

- () 1) تلون جبال الانديز في امريكا الجنوبية علي الخريطة باللون البني.
- () 2) تعتمد الانشطة البشرية في البيئة الصحراوية علي مياه نهر النيل.
- () 3) يؤثر حرق قش الأرز على البيئة الزراعية والمدن المجاورة لها

السؤال الثاني : اختر الاجابة الصحيحة مما بين الاقواس:-

- 1) يمكنك قياس سرعة الرياح باستخدام.....
- (الترمومتر - الانيمومتر - مقياس المطر - دوارة الرياح)

(2) تتسم البيئة..... بخصوبة التربة ووفرة المياه.

(الساحلية – الزراعية – الصحراوية – الصناعية)

السؤال الثالث : بم تفسر..؟

تلوث مياه نهر النيل.



مراجعة (الوحدة الثانية)

السؤال الاول : اختر الاجابة الصحيحة مما بين الاقواس:-

- 1- توجد علي جانبي النهر وساعدت علي قيام الزراعة.
(السهول الساحلية – السهول الفيضية – كلاهما صحيح)
- 2- الصحراء الشرقية تقع نهر النيل.
الصحراء الغربية تقع نهر النيل.
- 3- يتميز بوجود العديد من الجزر.
(البحر المتوسط – نهر النيل – البحر الاحمر)
- 4- اللون الاخضر الفاتح علي الخريطة يدل علي المناطق
(المنخفضة – الاكثر انخفاضاً – المرتفعة)
- 5- اللون الاخضر الغامق علي الخريطة يدل علي المناطق.....
(المنخفضة – الاكثر انخفاضاً – المرتفعة)
- 6- اللون البني الفاتح علي الخريطة يدل علي المناطق.....

- (المنخفضة – المرتفعة – الأكثر ارتفاعاً)
- 7- اللون البني الغامق علي الخريطة يدل علي المناطق.....
- (المنخفضة – المرتفعة – الأكثر ارتفاعاً)
- 8- التل من المناطق.....
- (المرتفعة – الاقل ارتفاعاً – المنخفضة)
- 9- السهل الفيضي والسهل الساحلي من المناطق.....
- (المرتفعة – الاقل ارتفاعاً – المنخفضة)
- 10- تقع تلال المقطم شمال.....
- (الاسكندرية – القاهرة – الجيزة)
- 11- تقع هضبة الجلف الكبير في.....
- (الصحراء الشرقية – شبه جزيرة سيناء – الصحراء الغربية)
- 12- تقع هضبة الجلف الكبير مصر.
- (شمال شرق – جنوب غرب – جنوب شرق)
- 13- سواحل البحر الاحمر والمتوسط هي سهول.....
- (ساحلية – فيضية – صخرية)
- 14- تقع جزيرة شدوان في البحر.....
- (المتوسط – الاحمر – العربي)
- 15- من اشباه الجزر في مصر (شبه الجزيرة العربية – شبه جزيرة شدوان – شبه جزيرة سيناء)
- 16- بحيرة ناصر من البحيرات الصناعية.....
- (العذبة – المالحة – الجوفية)
- 17- بحيرة البرلس من البحيرات.....
- (العذبة – المالحة – الجوفية)
- 18- منخفض القطارة تكون نتيجة التعرية.....
- (الهوائية – المائية – الشمسية)
- 19- اذا اردت السفر من محافظة جنوب سيناء الي وادي النيل فانك تعبر خليج.....
- (العقبة – السويس – العرب)
- 20- عند معرفة..... تتخذ قراراتك اليومية.
- (الطقس – المناخ – الفصل)
- 21- مناخ مصر.....
- (صحراوي حار – مداري حار – استوائي)
- 22- المناخ يكون معتدل وممطر في الشتاء وحار وجاف في الصيف.
- (المداري الحار – الصحراوي الحار – الاستوائي)
- 23- المناخ يكون دافئ وممطر في الصيف ووجاف وبارد في الشتاء.
- (المداري الحار – الصحراوي الحار – الاستوائي)
- 24- تقاس درجة الحرارة ب.....
- (ميزان الحرارة – الانيمومتر – مقياس المطر)
- 25- يعمل في محطات الارصاد الجوية.
- (خبراء الفلك – خبراء الارصاد – خبراء الصناعة)
- 26- الهاتف المحمول يتمكن من تحديد حالة الطقس ب.....
- (الرسوم المتحركة – الخرائط التفاعلية – كلاهما صحيح)
- 27- اذا علمت ان الطقس اليوم بارد فإن اول قرار سوف تتخذه قبل ذهابك للمدرسة تحديد.....
- (الطعام – الملابس – وسيلة النقل)
- 28- الطقس و المناخ يختلفان في.....

- (درجة الحرارة – كمية المطر – الفترة الزمنية)
- 29- يمكن توقع الاحوال الجوية في المستقبل القريب من خلال.....
- (الانيمومتر – الاقمار الصناعية – الترمومتر)
- 30- البيئة تمثل معظم مساحة مصر .
(الصحراوية – الزراعية – الساحلية)
- 31- من امثلة الكثبان الرملية في مصر.....
- (الصحراء البيضاء – الصحراء السوداء – بحر الرمال العظيم)
- 32- تنتشر المنخفضات والكثبان الرملية في
- (الصحراء الشرقية – الصحراء الغربية – شبه جزيرة سيناء)
- 33- توجد البيئة الزراعية في
- (دلتا النيل – وادي النيل – كلاهما صحيح)
- 34- تتميز البيئة الزراعية ب..... السطح.
- (استواء – تعرج – ارتفاع)
- 35- تعتمد البيئة الزراعية علي مياه في جميع مجالات الحياه.
- (البحر الاحمر – الجوفية – نهر النيل)
- 36- تعد موطن لكثير من الاسماك.
- (بحيرة ناصر – بحيرة قارون – المياه الجوفية)
- 37- البيئة تتمثل في الشريط الساحلي للبحر المتوسط والاحمر.
- (الزراعية – الساحلية – الصحراوية)

السؤال الثاني : صوب ما تحته خط :-

- 1- الجبل من المناطق المنخفضة.
- 2- السهل الساحلي يتكون من رواسب الانهار.
- 3- المناخ المداري الحار يكون حار وممطر طوال العام.
- 4- تقاس كمية المطر بالانيمومتر.
- 5- يتم تمثيل البيانات الخاصة بعناصر الطقس والمناخ علي خرائط التضاريس.
- 6- البيئة الزراعية توجد في الصحراء الغربية والصحراء الشرقية وشبه جزيرة سيناء.
- 7- يقع بحر الرمال العظيم في الصحراء الشرقية.
- 8- بحيرة ناصر تخزن المياه لري المناطق الزراعية.
- 9- البيئة الساحلية تكون ضيقة عند البحر المتوسط بسبب اقتراب الجبال من الساحل.

السؤال الثالث : اكتب ما تشير اليه العبارات الاتية:-

- 1- يوجد علي جانبيه السهول الفيضية الخصبة التي ساعدت علي قيام الزراعة منذ القدم. (...)
- 2- صحراء تتميز بصخورها الصلبة وجبالها الشاهقة وهضابها العالية وجوارها البحر الاحمر. (...)
- 3- تقع بين خليجي العقبة والسويس ويطلق عليها ارض الفيروز. (...)
- 4- الارض المنخفضة عن مستوي سطح البحر. (...)
- 5- ارض شديدة الارتفاع ولها قمة وجوانبها شديدة الانحدار. (...)
- 6- ارض مرتفعة قليلاً ولها قمة يقل ارتفاعها عن 1000 متر. (...)

- 7- مساحة واسعة من الارض مرتفعة مستوية او شبه مستوية السطح. (.....)
- 8- مساحة من الارض مستوية قليلة الارتفاع وتتكون من رواسب الانهار. (.....)
- 9- مساحة من الارض مستوية تمتد علي طول ساحل البحر. (.....)
- 10- ارض تحيط بها المياه من جميع الجهات. (.....)
- 11- مساحة من اليابس تحيط بها المياه من ثلاث جهات. (.....)
- 12- مساحة من الماء المالح اقل من المحيط. (.....)
- 13- مجري مائي عذب. (.....)
- 14- اطول انهار العالم. (.....)
- 15- مساحة صغيرة من المياه يحيط بها اليابس من جميع الجهات. (.....)
- 16- هي نحت الماء للصخور. (.....)
- 17- هي نحت الرياح للصخور. (.....)
- 18- وصف حالة الجو من حيث الحرارة والرياح والامطار في فترة زمنية قصيرة. (.....)
- 19- وصف حالة الجو من حيث الحرارة والرياح والامطار في فترة زمنية طويلة. (.....)
- 20- بيئة تضم الصحراء البيضاء والصحراء السوداء. (.....)
- 21- تجمعات كبيرة من الرمال. (.....)
- 22- يغطيها اللون الابيض وتعتبر متحفاً مفتوحاً لدراسة المظاهر التضاريسية والحفريات و الحياه البرية. (.....)
- 23- تتميز بجبالها وهضابها المغطاة باللون الاسود. (.....)
- 24- من اكبر البحيرات الصناعية في العالم وتوجد امام السد العالي. (.....)
- 25- تتميز بمناظرها وألوانها الخلابة التي تجذب السياح. (.....)

السؤال الرابع : ضع علامة (صح) امام العبارة الصحيحة ، وعلامة (خطأ) امام العبارة الغير صحيحة :-

- 1- في خريطة مصر يلون مستوي ارتفاع كل منطقة بلون محدد. ()
- 2- الهضبة من امثلة المناطق الاقل ارتفاعاً. ()
- 3- قد يتغير الطقس من يوم الي اخر او يتغير عدة مرات في اليوم الواحد. ()
- 4- توجد عدة ادوات تستخدم لقياس احوال الطقس. ()
- 5- التكنولوجيا ليس لها دور في قياس عناصر الطقس. ()
- 6- هناك اقمار صناعية خاصة بالطقس. ()
- 7- لا يستطيع خبراء الارصاد توقع الاحوال الجوية في المستقبل القريب. ()
- 8- توجد في مصر " الهيئة العامة للأرصاد الجوية" ويتبعها عدد كبير من محطات الارصاد الجوية في محافظات مصر. ()
- 9- الزراعة والصناعة والسياحة من الانشطة التي تستفيد من خدمات الارصاد الجوية. ()
- 10- النقل والاتصالات و صيد الاسماك من الانشطة التي لا تستفيد من خدمات الارصاد الجوية. ()
- 11- قارة افريقيا يسود جميع اجزائها المناخ المداري الحار فقط. ()

- 12- يصب نهر النيل في البحر الاحمر. ()
 13- البيئة الساحلية تكون متسعة عند البحر الاحمر و ضيقة عند البحر المتوسط. ()
 14- تنتشر الشعاب المرجانية علي طول ساحل البحر الاحمر وخليجي العقبة والسويس. ()

السؤال الخامس : اكمل العبارات الاتية:-

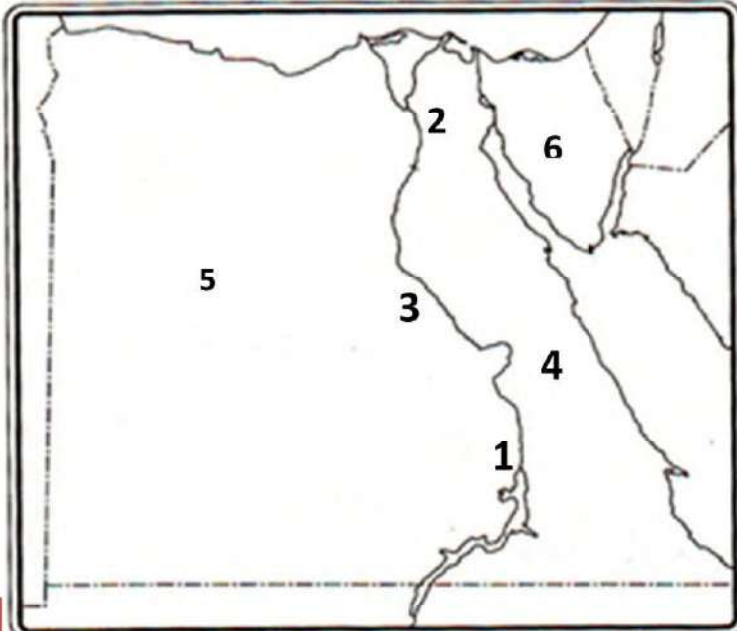
- 1- من المناطق المنخفضة في مصر منخفض.....
 2- يلون منخفض القطارة علي الخريطة باللون.....
 3- اللون البني الفاتح علي الخريطة يدل علي المناطق المرتفعة مثل.....
 4- جبال سانت كاترين علي الخريطة تلون باللون.....
 5- من الاراضي الاقل ارتفاعاً السهول مثل السهول والسهول.....
 6- من امثلة الجبال في مصر جبل.....
 7- من امثلة التلال في مصر تلال..... شمال القاهرة.
 8- من المنخفضات الموجودة في مصر منخفض.....
 9- من امثلة البحار في مصر البحر..... و البحر.....
 10- يقع نهر في مصر.
 11- الطقس هو وصف حالة الجو في فترة قصيرة قد تكون يوم او او
 12- المناخ هو وصف حالة الجو في فترة طويلة قد تكون او
 13- المناخ في مالوي مناخ
 14- المناخ في سيراليون مناخ
 15- لتحديد اتجاه الرياح نستخدم او
 16- تقاس سرعة الرياح ب.....
 17- هناك..... تدور حول الارض تستخدم في جمع بيانات عن عناصر الطقس.
 18- يقوم خبراء الارصاد في محطات الارصاد الجوية بتجميع البيانات وتحليلها باستخدام.....
 19- توضح درجة الحرارة العظمي والصغرى في المدن الكبرى.
 20- من البيئات المصرية البيئة و البيئة و البيئة
 21- بسبب مساحة مصر الكبيرة و موقعها الجغرافي المتميز و مظاهر السطح المتعددة ادي ذلك الي تنوع..... فيها.
 22- الصحراء مغطاة باللون الاسود بسبب بقايا الانفجارات البركانية التي جفت علي مدي ملايين السنين.



من الدراسات الاجتماعية
م / حاتم عاطف

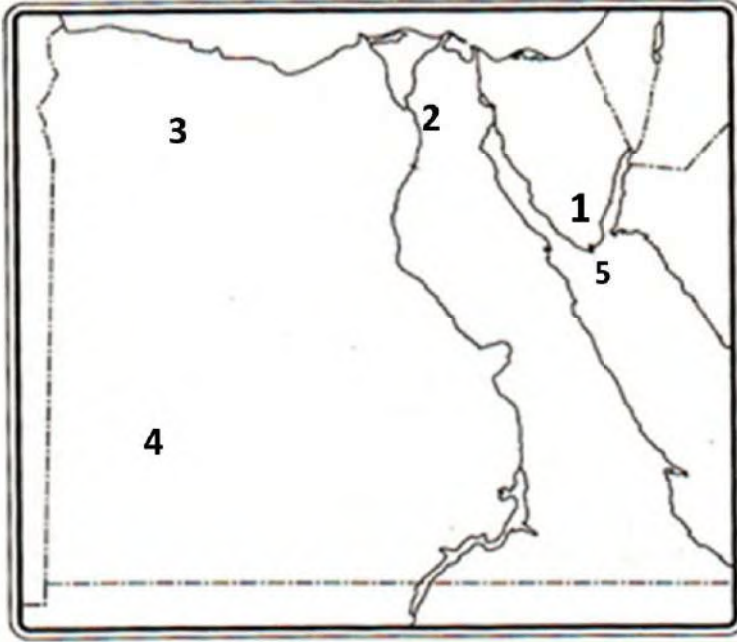
خرائط الوحدة الثانية

السؤال الاول : امامك خريطة صماء لمصر اكتب مدلول الارقام عليها:-



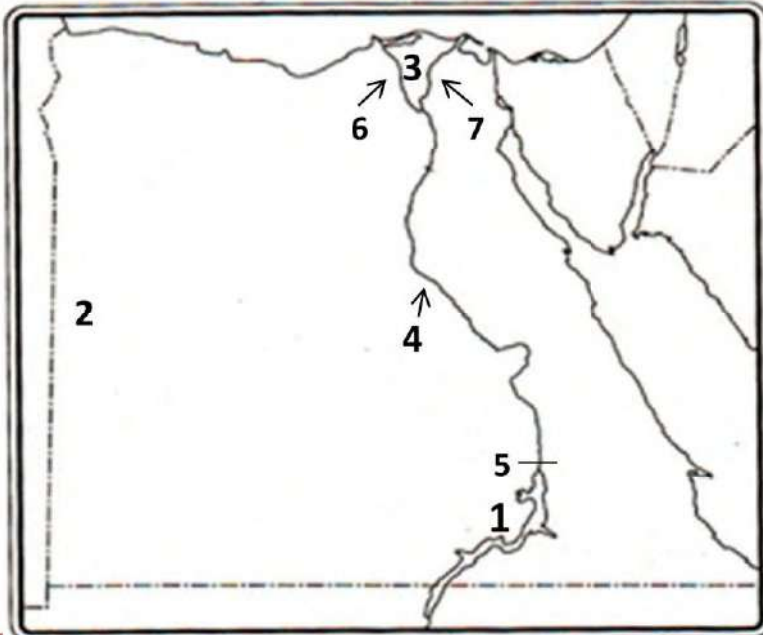
- 1) محافظة
- 2) محافظة
- 3) نهر
- 4) الصحراء
- 5) الصحراء
- 6) شبة جزيرة

السؤال الثاني: امامك خريطة صماء لمصر اكتب مدلول الارقام عليها:-



- (1) جبل
- (2) تلال
- (3) منخفض
- (4) هضبة
- (5) جزيرة

السؤال الثالث: امامك خريطة صماء لمصر اكتب مدلول الارقام عليها:-



- (1) بحيرة
- (2) بحر
- (3) دلتا
- (4) وادي
- (5) السد
- (6) فرع
- (7) فرع



الوحدة الثالثة

الحرف التراثية

الدرس الاول

الحرف اليدوية التراثية: هي الصناعات المعتمدة على الأيدي العاملة، وقد عرفتها مصر منذ القدم.

من أمثلتها: صناعة الزجاج و الخيامية و الفخار و النسيج و السجاد اليدوي و المشغولات الذهبية و النحاسية و التطريز و غيرها .



السجاد اليدوي ينسج علي
النول اليدوي .

الاطباق والسلال الملونة تصنع من
الخوص الذي يصنع من أوراق
النخيل.

القلعة من صناعة الفخار




أنواع الحرف والصناعات التراثية في مصر:

1 - صناعة الفخار

- من أقدم الصناعات اليدوية.
- تنتشر هذه الحرف في العديد من القرى المصرية.
- تعتمد على الإبداع والإحساس الفني للصانع.
- يقوم الصانع بتشكيل طين الفخار بيديه ويتركه ليجف ثم يضعه في فرن خاص.

2 - صناعة النسيج والسجاد اليدوي



- من الحرف المدرجة على قائمة التراث العالمي في منظمة اليونسكو.
- يستخدم العمال معرفتهم الموروثة ومواهبهم الفنية لإنتاج منسوجات مطرزة.
- يعتمد العمال في صناعتهم على بعض الخامات مثل (الكتان - القطن - الصوف - الحرير).
- وتعد قرية (الحرانية) في **الجيزة** مقصداً لآلاف السائحين لتمييزها بهذه الصناعة.

3 - صناعة الخيامية



- من الحرف اليدوية.
- يستخدم فيها الصانع الإبرة والخيط لعمل الخيام وإنتاج قطع فنية.
- تتركز في شارع **الخيامية** في منطقة **الأزهر** في القاهرة.

4 - صناعة الزجاج



- من الصناعات القديمة.
- يبدع الصانع في صناعة الزجاج وزخرفته في العديد من الأماكن مثل: (قرية جراح) في محافظة **الدقهلية**.

تعلم أن :

أكمل

1- تنتشر صناعة الفخار في البيئة الزراعية

فكر وأجب :

ضع علامة (✓) أمام العبارة الصحيحة وعلامة (x) أمام العبارة غير الصحيحة:

()

1 - الأطباق والسلال الملونة تصنع من الخوص.

()

2 - الحرف والصناعات التراثية انتشرت في مصر حديثاً.

قائمة التراث العالمي:

هي معالم تقوم لجنة التراث العالمي في اليونسكو بترشيحها ليتم وضعها في برنامج مواقع التراث الدولية مثل المدن الأثرية.

للحرف التراثية أهمية في دعم الاقتصاد المصري حيث إنها:

- 1 - توفر فرص عمل للشباب.
- 2 - تساعد في حماية البيئة، حيث تستخدم بعض المخلفات في بعض الحرف اليدوية.
- 3 - تدعم السياحة المستدامة حيث يقبل السائحون على شراء منتجات الحرف التراثية.

السياحة المستدامة:

هي السياحة التي تلبي احتياجات السياح ومجتمعات البلد المضيف للسياح دون الإضرار بالبيئة.

جهود الدولة في إحياء الحرف التراثية:

تبذل الدولة جهودا كبيرة من أجل إحياء الحرف التراثية منها:

- 1 - رعاية مصالح العمال.
 - 2 - إعداد برامج تدريبية لتعليمهم المهارات الخاصة ببعض الحرف.
 - 3 - تسويق المنتجات من خلال المهرجانات والاحتفالات السنوية منها) معرض تراثنا للحرف اليدوية الذي أقيم في محافظة القاهرة عام 2020م).
- أنشأت الدولة مدينة **الجلود في الروبيكي** في مدينة بدر في القاهرة لتشجيع صناعة الجلود.

**صناعة الجلود:**

- تعد من أهم الحرف اليدوية التراثية في مصر.
- ساهمت هذه الصناعة في ازدهار الاقتصاد المصري بدرجة كبيرة.

مدينة الروبيكي صديقة البيئة:

- تضم مناطق لإنتاج وفحص المنتجات الجلدية للتأكد من جودتها.
- تعد "الروبيكي" مدينة صديقة للبيئة، حيث يتم إعادة تكرير مياه الصرف الصحي واستخدامها لري الأشجار الموجودة بالقرب من هذا المكان.

متحف مدينة الروبيكي:

- عندما تذهب لزيارة هذه المدينة تذكر زيارة متحف المنتجات الجلدية التراثية هناك حيث يمكنك مشاهدة مراحل تطور هذه الصناعات في مصر عبر العصور.

الحرفيون:

- يحرص الحرفيون على مواكبة هذه المنتجات للعصر الحديث.
- لذلك يسعون إلى ابتكار الألوان والتصاميم الجديدة باستمرار.
- يشارك الصناع في ورش عمل وتدريبات متخصصة لهذه الحرفة مما يساعدهم على الحفاظ على مستوى عال لجودة هذه المنتجات.

تعلم أن :

أكمل

1- السياحة التي تلبي احتياجات السياح ومجتمعات البلد المضيف للسياحة هي السياحة المستدامة

فكر وأجب :

صوب ما تحته خط:

- 1- قامت الدولة بإنشاء مدينة الروبيكي لتشجيع صناعة النسيج. ()
- 2- أنشأت الدولة مدينة الجلود في الروبيكي في مدينة بدر في إسوان. ()

نشاطصنف الصناعات التالية حسب المكان التي تتركز فيه :

(صناعة الخيامية - صناعة الجلود - صناعة الزجاج)

	قرية الجراح
	مدينة الروبيكي
	شارع الخيامية

أعمال صفية

ضع علامة (✓) أمام العبارة الصحيحة وعلامة (×) أمام العبارة غير الصحيحة.

- 1- المشغولات اليدوية من الحرف اليدوية التي توجد في مصر ()
- 2- صناعة الزجاج تتركز في شارع الخيامية في منطقة الازهر ()
- 3- صناعة الفخار من الصناعات التي وضعتها منظمة اليونسكو علي قائمة التراث العالمي ()
- 4- يصنع الخوص من اوراق النخيل ()

الواجب المنزلي

اكمل العبارات الآتية بما يناسبها من كلمات مما بين القوسين:

(السجاد اليدوي – الفخار – الزراعة – المشغولات النحاسية)

- 1 – تنتشر صناعة الفخار في البيئة.....
- 2 – القطن من الخامات التي تدخل في صناعة.....
- 3 – أقدم الصناعات اليدوية وتنتشر في العديد من القرى المصرية هي صناعة.....
- 4 – النحاس مورد يدخل في صناعة.....

ضع دائرة حول الإجابة الصحيحة مما يلي :

- 1- قرية الحرائية تعد مقصدا لكثير من السياح لتمييزها بصناعة
(أ) النسيج (ب) الزجاج (ج) الفخار (د) الخيامية
- 2 - أي الموارد الطبيعية الآتية يدخل في صناعة الزجاج؟
(أ) الحديد (ب) الرمال (ج) التربة (د) النحاس
- 3- الحرف التراثية تساعد في دعم الاقتصاد المصري من خلال توفير
(أ) فرص عمل (ب) رعاية اجتماعية (ج) فرص دراسية (د) رعاية صحية
- 4 - أي من المواد الخام التالية يدخل في صناعة النسيج ؟
(أ) القطن (ب) الخوص (ج) الرمال (د) القش
- 5 - صناعة السجاد اليدوي تنتشر في محافظة
(أ) الجيزة (ب) القاهرة (ج) أسوان (د) الدقهلية
- 6- مدينة صديقة للبيئة في مصر و بها متحف عن المنتجات الجلدية
(أ) الجراح (ب) الحرائية (ج) الروبيكي (د) الجيزة
- 7 - قرية الحرائية في الجيزة مقصد لآلاف السائحين لشهرتها بصناعة

(أ) الزجاج (ب) الفخار (ج) الجلود (د) السجاد اليدوي

8- صناعة أدرجتها منظمة اليونسكو ضمن قائمة التراث العالمي

(أ) صناعة النسيج (ب) صناعة الزجاج (ج) صناعة الجلود (د) صناعة الفخار

صوب ما تحته خط:

1 - صناعة الزجاج تم إدراجها ضمن قائمة التراث العالمي. ()

2 - صناعة النسيج أقدم صناعة يدوية في مصر. ()

3 - الحرف التراثية من أهميتها تقليل فرص عمل الشباب. ()

4 - قامت الدولة بإنشاء مدينة الروبيكي لتشجيع صناعة النسيج. ()

5- صناعة الفخار يتم إنتاجها في شارع الخيامية في الازهر. ()



المستثمر الصغير

الدرس الثاني

-الهدف من إنشاء بنك مصر :

في أحد الأيام طرأت للخبير الاقتصادي (محمد طلعت باشا حرب) فكرة رائعة فقام في عام 1920م

بتأسيس (بنك مصر) وهو أول بنك وطني في تاريخ مصر لاستثمار مدخرات الشعب المصري في دعم منات المشروعات في مصر في المجالات الآتية مثل (الصناعة - الزراعة - السياحة)



وقد ساعد ذلك على ازدهار الاقتصاد المصري.

البنوك: هي مؤسسات تقدم خدمات مصرفية متنوعة.

تقدم جميع البنوك خدمات مالية متنوعة تشمل:

- 1 - قبول الودائع.
- 2 - فتح الحسابات المختلفة.
- 3 - إعطاء أموال إلى المستثمرين في شكل قروض.

البريد المصري:

يقدم خدمات مصرفية أيضا مثل:

- حسابات التوفير والادخار.
- تنتشر مكاتب البريد في جميع أنحاء مصر.

وقد تم إنشاء (البنك المركزي المصري) بهدف إصدار النقود والإشراف على جميع البنوك والمؤسسات المصرفية في مصر بما في ذلك البريد المصري.

تعلم أن :

- ضع علامة (✓) أمام العبارات الصحيحة أو علامة (×) أمام العبارات غير الصحيحة:

- 1 - يوجد فرع واحد فقط للبريد المصري داخل كل محافظة. (×)

فكر وأجب :

ضع دائرة حول الإجابة الصحيحة.

- 1- أسس بنك مصر الاقتصادي المصري
- (أ) طلعت حرب (ب) سيد درويش (ج) جمال حمدان (د) طة حسين
- 2- يقوم البنك بإعطاء الاموال للمستثمرين علي شكل
- (أ) خدمات (ب) قروض (ج) ودائع (د) سلع

الحاجات: هي الأشياء التي يجب أن تحصل عليها لتعيش.

الرغبات: هي الأشياء التي سيكون من الجيد الحصول عليها ولكنك تستطيع العيش بدونها.

الاستهلاك: يعني إنفاق النقود لشراء الحاجات والرغبات.

- هناك قاعدة اقتصادية مهمة وهي " كلما قل الاستهلاك زاد الادخار وزاد الاستثمار وازدهر الاقتصاد".

المدخرات: هي الأموال التي لن تستهلكها في إشباع رغبات



تعلم أن :

أكمل :

1 - **الاستهلاك** يعني إنفاق النقود لشراء الحاجات والرغبات.

فكر وأجب :

ضع علامة (✓) أمام العبارة الصحيحة وعلامة (x) أمام العبارة غير الصحيحة:

1- الحاجات هي الأشياء التي سيكون من الجيد الحصول عليها ولكنك تستطيع العيش بدونها ()

2- كلما قل الاستهلاك ازدهر الاقتصاد. ()

(الخبز - الذهب الي الملاهي - الملابس - التليفزيون - المسكن المناسب - المتاحف)

الرغبات	الحاجات

أعمال صفية

ضع علامة (√) أمام العبارة الصحيحة وعلامة (x) أمام العبارة غير الصحيحة:

- 1- البريد المصري يقدم قروضا للمستثمرين. ()
- 2- المسكن الذي تعيش فيه يعد من الرغبات. ()
- 3- الرغبات هي الأشياء التي يجب أن تحصل عليها لتعيش. ()
- 4- يشرف البنك المركزي المصري على جميع المؤسسات المصرفية في مصر. ()
- 5- إصدار العملات الورقية من مهام البريد المصري. ()

الواجب المنزلي

ضع دائرة حول الإجابة الصحيحة:

- 1 - أول بنك وطني في تاريخ مصر هو بنك.....
أ) الأهلي. ب) العربي. ج) مصر. د) الإفريقي.
- 2 - ادخار المال يساعد على.....
أ) الاستثمار. ب) الخدمات. ج) السلع. د) الواجبات.
- 3 - الماء بالنسبة للإنسان يعتبر من.....
أ) الرفاهيات. ب) الرغبات. ج) الأعمال. د) الحاجات.
- 4 - كلما زاد الاستثمار ازدهر.....
أ) الصحة. ب) التعليم. ج) الاقتصاد. د) الأمن.

ما الفرق بين الرغبات والحاجات؟

الرغبات:

الحاجات:

معناً لحياه افضل!

الدرس الثالث

يتم انتاجه ونقوم بشرائه مثل المنتجات
تقوم به الدولة لتلبية حاجات المواطنين مثل



الفرق بين السلع والخدمات
السلع: هي التي تعني كل ما
الغذائية - الاجهزة الكهربائية
الخدمات: هي أي عمل او نشاط
المدارس - المستشفيات



1 الخدمات التعليمية

- توفر الدولة التعليم للجميع وتبني المدارس والجامعات .
- توفر المنح والبعثات الدراسية للطلاب .

2 الخدمات الصحية

- توفر المستشفيات والرعاية الصحية والأدوية والأمصال .




3 الخدمات البيئية

- تنظيف وتجميل الشوارع والميادين .
- مراقبة الأنشطة التي تؤثر على البيئة مثل النشاط الصناعي والزراعي .



4 الخدمات الترفيهية والثقافية

- انشاء الأندية الرياضية والحدائق .
- انشاء دور السينما والمتاحف .
- مثل المتحف القومي للحضارة المصرية .
- رعاية المواهب ونشر الفنون والثقافة .



5 الخدمات الامنية

- يقوم رجال الشرطة بحماية المؤسسات والقبض علي الخارجين عن القانون.
- يقوم رجال الجيش بحماية حدود الوطن.

تعلم أن :

أكمل

1- المنتجات التي يتم انتاجها ويقوم الافراد بشرائها تسمى السلع

فكر وأجب :

صوب ما تحته خط:

- 1- انشاء الدولة للأنشطة الرياضية والحدائق من الخدمات التعليمية ()
- 2- نشاط تقوم به الدولة لتلبية حاجات المواطنين هو السلع ()

مبادرات تحسين معيشة المواطن

تهدف الدولة الي تحسين معيشة المواطنين من خلال عدة مبادرات هي :

حملة 100 مليون صحة



- هي احدي المبادرات التي تهتم بصحة المواطن
- انطلقت عام ٢٠١٨ م
- تستهدف الكشف المبكر عن الاصابة ببعض الأمراض مثل الالتهاب الكبدي الوبائي
- تقدم الدولة خدمات العلاج والمتابعة

مبادرة حياة كريمة



- تهدف إلي التخفيف عن المواطنين في المجتمعات الأكثر احتياجا عن طريق :
- تقديم الخدمات الصحية والتعليمية والأنشطة الثقافية والرياضية

التطوير العمراني



- اقامة المدن الجديده وانشاء الطرق والكباري وتطوير العشوائيات
- مثل حي الأسمرات

توفير الخدمات الالكترونية

- توفر الدولة العديد من الخدمات الالكترونية من خلال موقع الحكومة الالكترونية دون الذهاب الي المؤسسات



وبذلك توفر الوقت والجهد والمال علي المواطنين

أمثلة الخدمات الالكترونية

استخراج **الوثائق الرسمية** (شهادات الميلاد - جوازات السفر)
الاستعلام عن **فواتير** (الكهرباء والتليفونات - المخالفات المرورية)

تعلم أن :

ضع علامة (✓) أو علامة (×) :

1- تسعى الدولة الي إنشاء الطرق والكباري وتطوير العشوائيات (✓)

فكر وأجب :

صوب ما تحته خط:

1- حملة 100 مليون صحة تهدف الي تقديم خدمات بيئية ()

2- الاستعلام عن فواتير المياه والكهرباء من أمثلة التطوير العمراني . ()

نشاط

صنف الخدمات الاتية الي الشخص الذي يقدمها :

(الضابط – المعلم – عامل النظافة - الطبيب)

الأمنية	البيئية	الصحية	التعليمية

أعمال صفية

اختر الاجابة الصحيحة مما بين القوسين

1- يعد بناء المستشفيات من الخدمات

(الأمنية - التعليمية - الصحية - الثقافية)

2- احدى الخدمات الرقمية

(استخراج الوثائق - بناء المستشفيات - انشاء المتاحف - بناء المدارس)

3- احدى الخدمات الأمنية

(حماية حدود الوطن - رعاية المواهب - اقامة المدن الجديدة)

- 4- احدي الخدمات الترفيهية
(انشاء النوادي - تطوير العشوائيات - بناء المدارس)
- 5- توفير المنح والبعثات يعد من الخدمات
(الالكترونية - التعليمية - الثقافية - الترفيهية)

الواجب المنزلي

ضع علامة (✓) أمام العبارات الصحيحة أو علامة (×) أمام العبارات غير الصحيحة :

- 1-تهدف مبادرة حياة كريمة الي الكشف المبكر عن مرض الالتهاب الكبدي الوبائي ()
- 2- يقوم الاطباء بحماية المؤسسات ()
- 3- نظافة الشوارع والميادين وتجميلها ضمن الخدمات التعليمية ()
- 4- تقدم المدارس والجامعات خدمات تعليمية ()
- 5- اهتمت الدولة بالتنوير العمراني عن طريق انشاء العشوائيات ()

أمامك جدول به مجموعة من الخدمات والسلع ضع علامة (✓) أمام العبارات التي تمثل سلعا أو خدمات :

خدمة	سلعة	
		أ - اجهزة الكترونية
		ب- حماية مؤسسات
		ج- علاج المرضي
		د- المواد الغذائية
		هـ- التعليم في المدارس

حقوق الاطفال

ماهي حقوقك كطفل:

تحرص الدولة على أن يتمتع جميع الأطفال بحقوقهم بشكل عادل دون تمييز وهي الحقوق التي أكدت عليها الأديان السماوية والمواثيق الدولية والمحلية

أمثلة حقوق الطفل:

الحماية

التعليم والترفيه

المسكن اللائق

التغذية

الحق في الاسم المناسب

الرعاية الصحية والأسرية



الجهود الدولية لحماية حقوق الطفل:

أصدرت الأمم المتحدة اتفاقية "حقوق الطفل عام ١٩٨٩م" والتي تنص علي :

- 1- **المشاركة** : وهو مشاركة الطفل في اتخاذ القرارات التي تؤثر في حياته.
- 2- **الرعاية** : وتشمل توفير المسكن والغذاء والتعليم والترفيه.
- 3- **الحماية** : وهي أن تكون البيئة التي يعيش فيها الطفل آمنه.



تعلم أن :

ضع علامة (✓) أو علامة (×) :

- 1- للطفل حق في الحصول علي الرعاية الصحية والاسرية (✓)

فكر وأجب :

أكمل :

1- أصدرت الأمم المتحدة اتفاقية عام 1989م .

2- تشمل توفير المسكن والغذاء والتعليم والترفيه .



الجهود المحلية لحماية حقوق الطفل:

دستور مصر عام 2014

أكدت المادة رقم (80) على حق الطفل في الرعاية والتعليم والصحة والمسكن وغيرها .

قانون الطفل المصري

وضعت الدولة " قانون الطفل المصري " الذي يتضمن مواد تحمي الطفل من اي انواع التمييز .

خط نجدة الطفل رقم 16000

وفرت الدولة خط ساخن لنجدة الطفل رقم 16000 للإبلاغ عن الحالات التي يتعرض فيها الأطفال لاي اشكال العنف.

حقوق ذوي الاحتياجات الخاصة



-أكدت المادة (٨١) من دستور 2014م علي حقوق ذوي الاحتياجات الخاصة
مثل :

الخدمات التي تلبي احتياجاتهم في
الأماكن العامة

الرعاية الصحية

التعليم



نموذج من ذوي الاجتياحات الخاصة في مجتمعنا : عميد الادب العربي الدكتور طة حسين

الذي :

حصل علي
درجة الدكتوراه

تحدي إعاقة
فقد البصر



حصل علي
العديد من
الجوائز

الف العديد
من الكتب

ما واجبك كطفل

المساعدة في بعض
الاعمال المنزلية

المذاكرة وأداء الواجبات
المدرسية

المحافظة على البيئة

الالتزام بالقواعد
والقوانين

تعلم أن :

فكر وأجب :

ضع علامة (✓) أمام العبارات الصحيحة أو علامة (×) أمام العبارات غير الصحيحة

- 1- يؤكد الدستور المصري علي حقوق ذوي الاحتياجات الخاصة ()
- 2- المساعدة في الاعمال المنزلية من حقوق الطفل . ()

نشاط

لاحظ الصور التي أمامك ثم حدد في الجدول التالي:

أي منها يعبر عن حقوق الطفل؟ وأي منها يعبر عن واجباته؟

واجبات	حقوق	الصورة
		
		



" أعمال صفية "

أكمل العبارات الآتية بالكلمات المناسبة مما بين القوسين:

(الامم المتحدة - الواجبات - الامن - المستشفيات)

- 1- يحصل الطفل على الرعاية الصحية في.....
- 2- اتفاقية حقوق الطفل عام 1989 م من الجهود الدولية التي صدرت عن.....
- 3- يجب أن تتميز البيئة التي يعيش فيها الطفل ب.....
- 4- الالتزام بالقواعد والقوانين من الطفل.

الواجب المنزلي

1) ضع دائرة حول الاجابة الصحيحة مما يلي:

- 1- يحصل الطفل علي التعليم المناسب في.....
 - أ - المستشفيات
 - ب - المدارس
 - ج - الشوارع
 - د - النوادي
- 2- أي من الشخصيات المصرية التالية حقق مراكز متقدمة رغم إعاقته البصرية ؟

ب -جمال حمدان

أ -سيد درويش

د -طلعت حرب

ج -طة حسين

3 -يضمن دستور مصر عام 2014 حقوق.....

ب -ذوي الاحتياجات الخاصة.

أ -الطفل فقط

د -الطفل وذوي الاحتياجات الخاصة معا.

ج -المرأة فقط

4- يمكننا الاتصال بخط نجدة الطفل عند تعرضه ل.....

ب -العطف

أ -الحماية

د -الاحتواء

ج -العنف

(2) حدد المختلف في المجموعة التالية:

(الاسم المناسب – المسكن اللائق - المحافظة علي البيئة – التعليم المناسب)

(3) أكمل العبارات الاتية بالكلمات المناسبة مما بين القوسين:

(المحلية – الدولية)


1- اتفاقية حقوق الطفل التي صدرت عن الامم المتحدة تعد من الجهود.....

2- وضعت الدولة قانون الطفل المصري وهذا يعد من الجهود.....

" شخصيات مؤثرة "

الدرس الخامس

طه حسين



كاتب ومفكر مصري، لقب بعميد الادب العربي .

مولده

ولد الدكتور طه حسين في **محافظة المنيا** عام 1889م .

حياته

- لم تكن بداية حياته سهلة حيث فقد بصره في صغره - وعاش في أسرة فقيرة .
- بدأ حياته العلمية بالتحاقه بكتاب قريته ، فحفظ القرآن الكريم ثم التحق بالأزهر لیتم تعليمه ، ثم انتسب الي الجامعة المصرية حتي حصل علي درجة الدكتوراه .
- عين استاذا للتاريخ في جامعة القاهرة عام 1919 م .
- كتب العديد من المؤلفات منها : **(كتاب الايام)** الذي تناول فيه سيرته الذاتية بأسلوب ابداعي .
- تولى منصب وزير المعارف خلال عامي 1951م و 1952م .
- كان مؤمنا بحق التعليم المجاني لكل المصريين فأقر مجانية التعليم والتي من دونها لم يكن باستطاعة الكثير من اطفال مصر الحصول علي التعليم .
- أثناء مسيرته الادبية حصل علي العديد من الجوائز والاوزمة ورشح لجائزة نوبل للآداب عدة مرات .

وفاته

توفي عام ١٩٧٣م.

تعلم أن :

أكمل :

1 - ولد طه حسين في محافظة **المنيا** .

فكر وأجب :

ضع علامة (√) أمام العبارة الصحيحة وعلامة (x) أمام العبارة غير الصحيحة:

1- لم يؤمن طه حسين بحق التعليم المجاني ()

2- رشح طه حسين لجائزة نوبل للآداب عدة مرات ()

محمد طلعت باشا حرب

مفكر واقتصادي من اعلام الاقتصاد في العصر الحديث في مصر ولقب بـ (**ابو الاقتصاد المصري**)



مولده

ولد في **حي الجمالية** في القاهرة عام ١٨6٧م.

حياته

- أحب بلده مصر كثيرا واسهم في تطوره الاقتصادي والاجتماعي .
- كان يعرف قيمة ادخار المال وأهمية الدور التي تلعبه البنوك في التنمية الاقتصادية .
- كان يري أولى خطوات التحرر من الاستعمار هي تحرير الاقتصاد المصري من التبعية الاجنبية لذلك أسس بنك مصر .
- كان في بداية حياته كاتباً بارعا وكتب عدة مؤلفات ناقشت قضايا مصر والعالم الاسلامي .

أعماله

- أسس بنك مصر وكان ملكا للمصريين ويدار بعقول مصرية واستخدمت اللغة العربية في كل انظمته ووسائل التواصل فيه .
- تم تأسيس العديد من الشركات العملاقة بمساعدة هذا البنك وحملت اسم مصر مثل (شركة مصر للغزل والنسيج) (مصر للطيران) (مصر للتأمين) (استديو مصر) وغيرها .

وفاته

- توفي عام 1941م .
- تم منح اسمه قلادة النيل العظمي.
- اطلق اسمه علي أحد شوارع القاهرة.

تعلم أن :

أكمل :

1 - ولد محمد طلعت في محافظة **القاهرة** .

فكر وأجب :

ضع علامة (√) أمام العبارة الصحيحة وعلامة (x) أمام العبارة غير الصحيحة:

1- أسس طلعت حرب بنك مصر ()

2- لم يتم منح اسم طلعت حرب قلادة النيل العظمي ()

نشاط

صل من المجموعة (أ) ما يناسبها من المجموعة (ب) :

(ب)	(أ)
ب) ابو الاقتصاد المصري	طه حسين
لادب العربي	
برف قيمة ادخار المال	
لعديد من المؤلفات منها : (كتاب الايام)	طلعت حرب

" أعمال صفية "

أكمل العبارات الآتية :

أ- لقب طه حسين

ب- أنشأ بنك مصر .

" الواجب المنزلي "

اختر أحد الشخصيات المؤثرة في المجتمع المصري (طه حسين - محمد طلعت حرب) واذكر أهم أعماله .

.....

.....

.....

.....

.....

اختبار (3)**السؤال الاول : أكمل العبارات الاتية بكلمة مناسبة:-**

- 1) يعد محصول من المحاصيل التي تحافظ علي التربة.
- 2) توفر الدولة الخدمات..... بتوفير المدارس للطلاب.
- 3) انفاق النقود لشراء الحاجات والرغبات يسمى.....

السؤال الثاني : ضع علامة (صح) امام العبارة الصحيحة وعلامة (خطأ) امام العبارة غير الصحيحة:-

- 1) الدكتور طه حسين من اشهر نماذج ذوي الاحتياجات الخاصة. ()
- 2) تقديم التعليم بالمجان جزء من الخدمات الامنية. ()
- 3) يمكننا حماية مواردنا الطبيعية بتقليل استهلاكها. ()

السؤال الثالث : ما النتائج المترتبة على :-

استخدام سيارات تسير بالطاقة الشمسية.



مراجعته عامه
" الوحدة الثالثة "

السؤال الاول: اختر الإجابة الصحيحة مما بين الأقواس:-

- (1) من امثله المنتجات اليدوية في مصر
- (السجاد اليدوي - السيارات - الطائرات - الهواتف)
- (2) صناعه..... من الحرف المدرجة في قائمه التراث العالمي لمنظمه اليونسكو
- (السجاد اليدوي - الخياميه - الفخار - الزجاج)
- (3) يعتبر انشاء..... من الخدمات الصحية
- (المدارس - الجامعات - المستشفيات - الأندية)
- (4) يعتبر من نماذج ذوي الاحتياجات الخاصة
- (سيد درويش - جمال حمدان - طه حسين - طلعت حرب)
- (5) مع النمو السكاني المتزايد والتقدم العلمي نحتاج الى مزيد من.....
- (القرى _ المصانع - المدن الذكية - الواحات)
- (6) في المناطق الصحراوية تنتشر حرفه.....
- (الصيد - الرعي - الزراعة - التجارة)
- (7) من المحاصيل المجهدة للتربة.....
- (القطن - الفول - الحمص - البرسيم)
- (8) كلما قل الاستهلاك.....
- (زاد الادخار - زاد الاستثمار - ازدهر الاقتصاد - كل ما سبق)

السؤال الثاني: صوب ما تحته خط:-

- (1) مبادرة 100 مليون صحة تهدف المجتمعات الاكثر احتياجا (.....)
- (2) تضمن المادة رقم 80 في الدستور المصري حقوق ذوي الاحتياجات الخاصة (.....)
- (3) زياده الحاجه للروبوت تؤدي الى زياده الحاجه المتخصصين في مجال البناء (.....)
- (4) البريد من المهن الجديدة (.....)
- (5) اول بنك في التاريخ البنك المركزي (.....)
- (6) اسس طه حسين بنك مصر (.....)
- (7) الطاقة الكهرومائية مولده من الشمس (.....)
- (8) بنك مصر هو المسؤول عن اصدار النقود (.....)
- (9) الاستثمار يعني انفاق النقود لشراء الحاجات والرغبات (.....)

السؤال الثالث: ضع علامه (صح) امام العبارة الصحيحة او علامه (خطا) امام العبارة غير الصحيحة:-

- (1) مبادرة اتحضر للأخضر تحث المواطنين للمحافظة على البيئة ()

()

(2) صناعة الزجاج ليست من الصناعات اليدوية

()

(3) الحرف التراثية لا تدعم السياحة المستدامة

()

(4) من امثله الخدمات التي تقدمها الدولة الخدمات البيئية

()

(5) لا تقدم الدولة خدمات الكترونيه

()

(6) فرضت التكنولوجيا مهن جديده لم تكن موجوده من قبل

()

(7) السجاد اليدوي من المنتجات اليدوية في مصر

()

(8) يستخدم الصانع الإبرة والخيط لصناعه السجاد اليدوي

()

(9) الحياه المستدامة هي مسئوليه الحكومة وحدها

السؤال الرابع: بم تفسر.....؟

(1) بناء السدود

(2) اتجاه كل دول العالم من استخدام الطاقة المتجددة

(3) انشاء بنك مصر

(4) يمكن الاستغناء عن الرغبات وليست الحاجات

السؤال الخامس: اذكر.....؟

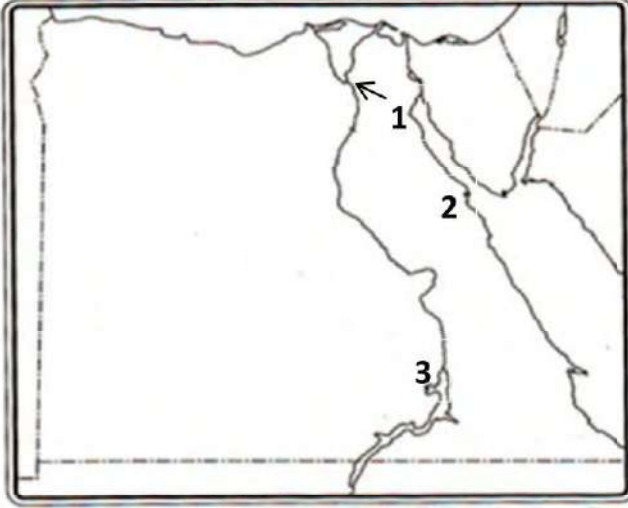
(1) جهود الدولة في احياء الحرف التراثية

(2) واجبات الطفل

(3) الفرق بين الحاجات والرغبات

خرائط الوحدة الثالثة

أمامك خريطة صماء لمصر وضح مدلول الأرقام عليها :-



(1) محطة كهرباء

(2) محطة كهرباء

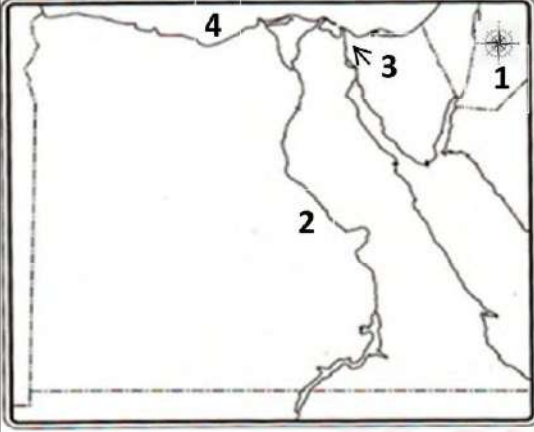
(3) محطة كهرباء



" النموذج الاول "

السؤال الاول:-

(1) أمامك خريطة صماء لمصر، ادرسها ثم اختر ما تشير إليه الأرقام مما بين الأقواس:-



1- يشير رقم (1) إلى.....
(مقياس الرسم - وردة البوصلة - عنوان الخريطة - خطوط الطول).

2 - يشير رقم (2) إلى.....
(الصحراء الشرقية - نهر النيل - البحر الأحمر - البحر المتوسط).

3 - يشير رقم (3) إلى.....
(الصحراء الشرقية - الصحراء الغربية - قناة السويس - وادي النيل)

4 - يشير رقم (4) إلى.....
(البحر المتوسط - البحر الأحمر - وادي النيل - دلتا النيل).

(ب) صنف المحافظات التالية إلى محافظات وجه قبلي ومحافظات وجه بحري في الجدول التالي:

(البحيرة - الجيزة - الإسكندرية - أسوان)

وجه قبلي	وجه بحري
.....
.....

السؤال الثاني:-

(أ) ضع دائرة حول الإجابة الصحيحة:-

1- يستخدم كطريق للتجارة بين شمال مصر وجنوبها.....

(أ) قناة السويس. (ب) البحر المتوسط

(ج) البحر الأحمر. (د) نهر النيل.

2- البرديات المصرية القديمة تعد من المصادر.....

(أ) الأولية. (ب) الثانوية .

(ج) البيانية (د) الطبيعية.

٣- ممر مائى ساعد في اختصار المسافة بين قارتي آسيا و أوربا.....

(أ) نهر النيل. (ب) البحر الأحمر.

(ج) قناة السويس. (د) البحر المتوسط.

4- نقطة التقاء بين الوجهين القبلي و البحري محافظة.....

(أ) المنيا. (ب) الإسكندرية.

(ج) القاهرة. (د) القليوبية.

5 - اللون الأسود في علم مصر الحالي يدل على.....

(أ) السلام (ب) التضحية.

(ج) التعاون (د) الاستعمار

(ب) ما العلاقة بين ...؟

جواهر الصقلي والعيد القومي لمحافظة القاهرة.

السؤال الثالث:-

ضع علامة (صح) أمام العدة الصحيحة و علامة (خطأ) امام العبارة غير الصحيحة:-

- 1- عند التقاط القمر الصناعي المصري مجموعة من الصور يطلق عليها صور جوية. ()
- 2- خطابات الخديوي إسماعيل لدعوة رؤساء وملوك العالم لافتتاح قناة السويس بعد مصادر أولية. ()
- 3- الوقوف باحترام أثناء تحية العلم في البطولات الرياضية واجب وطني. ()
- 4- الخطوط المرسومة على الخريطة بين محافظتي الحيرة ومطروح في حدود سياسية. ()

(ب) أجب عن الأسئلة الآتية :-

1- اذكر اثنين من مظاهر احتفال المحافظة بالعيد القومي.

2 - اذكر اثنتين من نتائج حفر قناة السويس الجديدة عام ٢٠١٥م.

السؤال الرابع:-

(أ) صوب ما تحته خط:-

(1) «نهر النيل أطول أنهار العالم». هذه العبارة تعد رأياً. (.....)

- (.....)
 (.....)
 (.....)
 (.....)

- (2) بدأت فكرة حفر قناة للربط بين البحرين في عهد رمسيس الثالث.
 (3) يضم شعار محافظة القاهرة جامع أحمد بن طولون.
 (4) الفيلم الوثائقي حول حفر قناة السويس بعد مصدرا ثانويا.
 (5) تقع مصر في الركن الشمالي الشرقي من قارة أوريا.

(ب) دال على صحة العبارة التالية:-

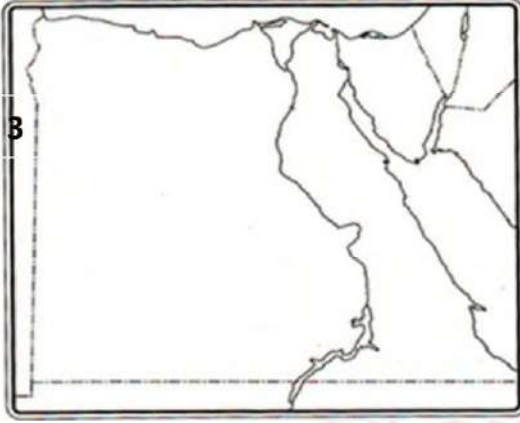
- إنشاء العاصمة الإدارية الجديدة له أهمية كبرى.



" النموذج الثاني "

السؤال الأول:-

(أ) أمامك خريطة صماء لمصر، أدرسها ثم اختر ما تشير إليه الأرقام مما بين الأقواس:-



(1) يشير رقم (1) إلى.....
(البحر الأحمر - البحر المتوسط - بحيرة ناصر - نهر النيل)

(2) يشير رقم (٢) إلى.....
(الصحراء الغربية - الصحراء الشرقية - شبه جزيرة سيناء - البحر الأحمر)

(3) يشير رقم (٣) إلى.....
(خليج السويس - خليج العقبة - قناة السويس - البحر المتوسط)

(4) يشير رقم (4) إلى.....
(بحيرة البرلس - بحيرة ناصر - خليج العقبة - خليج السويس)

(ب) ما النتائج المترتبة على؟

(1) حرق قش الأرز.

.....

(2) اتساع مساحة مصر.

.....

السؤال الثاني:-

(أ) ضع علامة (صح) أمام العبارة الصحيحة، وعلامة (خطأ) أمام العبارة غير الصحيحة:-

- () (1) تتكون شبكة الإحداثيات من خطوط الطول فقط.
- () (2) تتشابه المصادر الأولية والثانوية في توثيق الأحداث والمعلومات.
- () (3) تستخدم الرمال السوداء في صنع الخلايا الشمسية.
- () (4) بذلت الدولة جهودا للحفاظ على الموارد الطبيعية منها تحلية مياه النهر.
- () (5) القارة مساحة واسعة من اليابس تضم عددا من الدول.

(ب) حدد المختلف من المجموعات الآتية مع ذكر السبب:-

- 1- (إفريقيا - أستراليا - أوروبا - آسيا).....
 2- (فوسفات - منجنيز - بترول - حديد).....

السؤال الثاني:-**(أ) ضع دائرة حول الإجابة الصحيحة:-**

1- لمعرفة موقع محافظة البحيرة بالنسبة لموقع الإسكندرية يستعين ب.....
 (أ) مقياس الرسم. (ب) وردة البوصلة.

(د) مفتاح الخريطة. (ج) عنوان الخريطة.

2- مصادر تتميز بدقة المعلومات ومعاصرتها للأحداث هي المصادر.....

(أ) الثانوية (ب) الأولية.

(ج) البيانية. (د) الطبيعية.

3- أذخنة المصانع تؤدي إلى تلوث.....

(أ) التربة. (ب) المياه.

(ج) الهواء. (د) ضوضائي.

4 - الرمال المستخدمة في صناعة الخرف هي الرمال.....

(1) البيضاء. (ب) السوداء.

(ج) الصفراء. (د) الذهبية.

(ب) قارن بين البيئة الصحراوية والبيئة الزراعية من حيث:

- 1 - خصائصهما. 2- أماكن وجودهما.

وجه المقارنة	البيئة الصحراوية	البيئة الزراعية
الخصائص
أماكن الوجود

السؤال الرابع:-

(أ) أكمل باختيار الإجابة الصحيحة مما بين الأقواس:-

(القوة - الشعار - مفتاح الخريطة - المياه الجوفية - بحيرة ناصر)

- 1) راية تتخذها المحافظة رمزاً لها وتصف نشاط سكانها.....
- 2) يحتوى على الرموز والألوان الموجودة على الخريطة هو.....
- 3) تتخذها المحافظة رمزاً لها وتصف نشاط سكانها.....
- 4) النسر الذي يتوسط علم مصر يرمز إلى.....
- 5) مياه تستخرج من باطن الأرض وتساعد على قيام الزراعة في البيئة الصحراوية.....
- 6) تصنف من أكبر البحيرات الصناعية في العالم.....

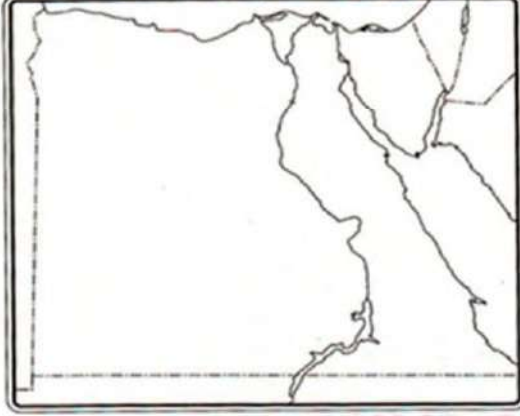
(ب) وضح أسباب تلوث المياه.



" النموذج الثالث "

السؤال الاول:-

(أ) أمامك خريطة صماء لمصر، ادرسها ثم اختر ما تشير إليه الأرقام مما بين الأقواس:-



1- مدينة رقم (1) تشتهر بوجود الحرف اليدوية اليدوية التراثية.....

(الجيزة - بورسعيد - القاهرة - النوبة).

2- يشير رقم (2) إلى.....

(شبه الجزيرة العربية - شبه جزيرة سيناء - الصحراء الشرقية - الصحراء الغربية).

3- يشير رقم (3) إلى.....

(شبه جزيرة سيناء - الصحراء الشرقية - الصحراء الغربية - وادي النيل).

4- تشير رقم (4) إلى منطقة زراعية.....

(الوادي - الدلتا - الفيوم - القطارة)

(ب) بم تفسر ؟ اذكر سببين.

1- الحرف التراثية لها أهمية للاقتصاد المسرى .

.....

2- للبنوك أهمية كبيرة للاقتصاد.

.....

السؤال الثاني:-(أ) ضع دائرة حول الإجابة الصحيحة:-

1- تنتج الدول لإنتاج سيارات تعمل بالغاز الطبيعي بدلا من.....

(أ) البنزين.

(ب) السولار

(ج) الفحم.

(د) الرياح

2- الخطوط الرأسية والدوائر الأفقية على الخريطة تسمى.....

(1) مفتاح الخريطة

(ب) عنوان الخريطة

(ج) مقياس الرسم

(د) شبكة الإحداثيات.

3 - أكبر بحيرة صناعية في مصر تكونت نتيجة لبناء.....

(1) سد الروافعة (ب) السد العالي.

(ج) سد اللاهون. (د) سد الكفرة.

4- أول بنك وطني في مصر هو.....

(أ) بنك مصر (ب) البنك الأهلي

(ج) بنك القاهرة. (د) بنك الإسكندرية.

5- يحد مصر الماء من.....

(أ) الشمال والشرق (ب) الشمال والغرب

(ج) الجنوب والشرق. (د) الجنوب والغرب.

(ب) حدد العلاقة بين

- خدمات الأرصاد الجوية والأنشطة.

السؤال الثالث:-

(أ) ضع علامة (صح) أمام العبارة الصحيحة، وعلامة (خطأ) أمام العبارة غير الصحيحة:-

- () 1) الطاقة الحفرية هي طاقة متجددة تحتاج لآلاف السنين لتكوينها.
- () 2) نقوش معبد أبو سمبل تعد مصادر أولية
- () 3) مبادرة « 100 مليون صحة » تدعو إلى النوعية البيئية وزراعة الأشجار.
- () 4) الصحراء البيضاء تنتشر في صحراء مصر الشرقية.

(ب) صلف الموارد الآتية إلى موارد متجددة وموارد غير متجددة:-

(الفحم - الشمس - البترول - الرياح)

موارد غير متجددة	موارد متجددة
.....
.....

السؤال الرابع:-

(أ) أكمل العبارات الآتية باختيار الإجابة المناسبة مما بين الأقواس:-

(الرعي - المناخ - القاهرة - المنتجات - الزعفرانة)

- 1) محطة تستخدم في توليد الكهرباء من طاقة الرياح.....
- 2) كل ما يقوم الإنسان بإنتاجه أو شرائه هو.....
- 3) تنتشر صناعة الخيامية في محافظة.....
- 4) خبراء الأرصاد الجوية في مصر يصفون..... خلال فصل الصيف بأنه حار.
- 5) المناطق الفيضية تشتهر بانتشار حرفة.....

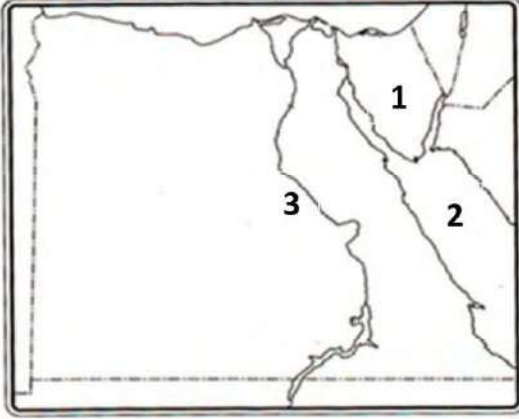
(ب) حدد اثنتين من الخدمات التعليمية التي تقدمها الدولة.



" النموذج الرابع "

السؤال الأول:-

(أ) امامك خريطة صماء لمصر اكتب مدلول الأرقام عليها:-



- 1- تقع بين خليجي السويس والعقبة.....
 2 - بحر يقع شرق مصر.....
 3- نهر يجري في مصر.....

(ب) صوب الخطأ في العبارات التالية:-

- 1- مقياس الرسم يساعد على تحديد الاتجاهات.
 2 - المعلومات والأحداث تعد أراء.
 3- تربط قناة السويس بين البحر المتوسط ونهر النيل.
 4- الجيرة هي عاصمة جمهورية مصر العربية.
- (.....)
 (.....)
 (.....)
 (.....)

السؤال الثاني:-

(أ) أكمل العبارات الآتية بالاختيار المناسب مما بين القوسين:-

(أوروبا - الإحداثيات - العلم - تحديد المواقع العالمي - الإدارية)

- 1- خطوط الطول ودوائر العرض من مكونات شبكة.....
 2- قناة السويس اختصرت المسافة بين آسيا و.....
 3 - الخطوط التي تفصل بين المحافظات على الخريطة تسمى الحدود.....
 4- نظام يساعد على تحديد اتجاهات السير في الأماكن.....
 5 - رمز يتخذ كل بلد ويرمز لتاريخها وتراثها.....

(ب) اشرح محلول اللونين الأبيض والأحمر في علم مصر.

السؤال الثالث:-

(أ) اختر الإجابة الصحيحة مما بين الأقواس:-

1- لمعرفة المسافة بين رفح والسلوم على الخريطة، يتم الاستعانة بـ.....

(أ) وردة البوصلة. (ب) مفتاح الخريطة.

(ج) عنوان الخريطة. (د) مقياس الرسم.

٢ - طريق تجاري قديم كان يدور حول إفريقيا ويأخذ الكثير من المال والوقت هو.....

(أ) نهر النيل. (ب) البحر الأحمر

(ج) قناة السويس (د) رأس الرجاء الصالح

٣- أي من المحافظات التالية تقع في الوجه البحري؟.....

(أ) اسيوط (ب) اسوان

(ج) قنا. (د) القليوبية

4 - المرحلة التي تعرضت فيها مصر للظلم في فترات الاستعمار يعبر عنها في العلم باللون.....

(أ) الأبيض. (ب) الأسود

(ج) الأحمر (د) الأصفر

(ب) قارن بين المصادر الأولية والثانوية من حيث

1- التعريف. 2- مثال لكل منهما.

وجه المقارنة	المصادر الأولية	المصادر الثانوية
التعريف
الأمثلة

السؤال الرابع:-

(أ) ضع علامة (صح) أمام العبارة الصحيحة، وعلامة (خطأ) أمام العبارة غير الصحيحة:-

- () 1- إهمال الميادين والشوارع من مظاهر الاحتفال بالعيد القومي للقاهرة.
- () 2 - موقع مصر زادت أهميته بعد حفر قناة السويس.
- () 3 - الوثائق من المصادر الثانوية للمعلومات.
- () 4 - كان لنهر النيل أهمية حضارية وتجارية.
- () ٥ - عنوان الخريطة يساعدنا في معرفة الاتجاهات الأصلية والفرعية.

(ب) ما العلاقة بين...؟

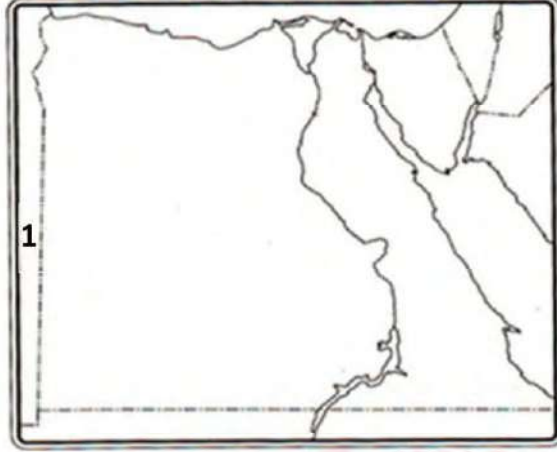
- الخريطة والمواقع الحربية.



" النموذج الخامس "

السؤال الأول:-

(أ) أمامك خريطة صماء لمصر، ادرسها ثم اختر ما تشير إليه الأرقام مما بين الأقواس:-



1- يشير رقم (1) إلى.....

(البحر الأحمر - البحر المتوسط - بحيرة ناصر - نهر النيل)

2 - يشير رقم (2) إلى.....

(الصحراء الشرقية - الصحراء الغربية - شبه جزيرة سيناء - وادي النيل)

3 - يشير رقم (3) إلى.....

(خليج السويس - خليج العقبة - قناة السويس - نهر النيل)

4- يشير رقم (4) إلى محافظة من محافظات.....

(الوجه البحري - الحدود - الزراعية - الوجه القبلي)

(ب) صنف المصادر التالية إلى مصادر أولية ومصادر ثانوية في الجدول التالي:-

(كتابات المؤرخين - الأبحاث - الكتب - النقوش)

مصادر ثانوية	مصادر أولية
.....
.....

السؤال الثاني:-

(أ) ضع علامة (صح) أمام العبارة الصحيحة، وعلامة (خطأ) أمام العبارة غير الصحيحة:-

- 1- تقدم البنوك خدمات مالية مثل قبول الودائع. ()
- 2 - الحياة المستدامة ليست مسئولية الحكومة وحدها. ()
- 3- معرفة المناخ تساعد على اتخاذ القرارات لممارسة الأنشطة اليومية مثل السفر. ()
- 4- تم حفر قناة السويس بأيدي مصريين. ()
- 5 - نظام تحديد المواقع العالمي يتم باستخدام الأقمار الصناعية. ()

(ب) حدد المختلف من المجموعتين التاليتين مع ذكر السبب:-

1- (السيارات - الفخار - الآلات - الطائرات).

.....

2- (الجيزة - أسيوط - شمال سيناء - الأقصر)

.....

السؤال الثالث:-**(أ) ضع دائرة حول الإجابة الصحيحة:-**

1- أنشأت الدولة مدينة الجلود في منطقة.....

(أ) بدر (ب) العبور

(ج) الشيخ زايد (د) السادس من أكتوبر.

2- تواجه الطاقة الحفرية خطر.....

(أ) النفاذ. (ب) الاستمرار.

(ج) التجدد. (د) البقاء.

3- مؤلف النشيد الوطني «بلادي بلادي» هو.....

(أ) طه حسين. (ب) جمال حمدان.

(ج) سيد درويش. (د) طلعت حرب.

4- عند تغييرك مجال عملك لتواكب متغيرات العصر فإنك تتميز ب.....

(أ) إبداع المشكلات. (ب) التعلم الجماعي.

(ج) الجمود. (د) المرونة.

(ب) قارن بين اثنين من حقوق الطفل واثنين من واجباته:-

حقوق الطفل	واجبات الطفل
.....
.....

السؤال الرابع:-

(أ) أكمل باختيار الإجابة الصحيحة مما بين القوسين:-

(مدخرات - الرعاية الصحية .. الهواء - التنمية المستدامة - السجاد اليدوي)

- 1) الكتان من المواد الخام التي تستخدم في صناعة.....
- 2) تنقل الإنسان بواسطة الدراجات يساعد على تقليل تلوث.....
- 3) من حقوق الطفل الحصول على.....
- 4) عند توفير جزء من مصروفك الشخصي يصبح لديك.....
- 5) الصوبات الزراعية مشروع الغرض منه تحقيق.....

(ب) فسر بذكر السبب:

- وجود اللون الأحمر بعلم مصر.

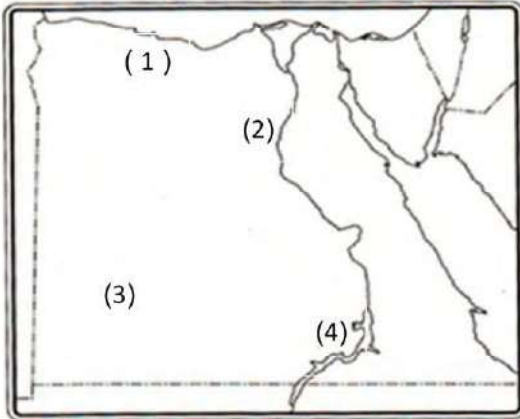


" محافظة القاهرة "السؤال الأول: اكتب كلمة (صواب) أمام العبارة الصحيحة وكلمة (خطأ) امام العبارة غير الصحيحة:-

- () 1 زادت أهمية موقع مصر في العصر الحديث بعد حفر قناة سيزوستريس.
- () 2 محافظة البحر الأحمر محافظة حدودية صحراوية.
- () 3 يدل اللون الأبيض في علم مصر على السلام.
- () 4 تحتفل محافظة القاهرة بعيدها القومي بمناسبة وضع حجر الأساس لبناء مدينة القاهرة.
- () 5 تلون هضبة الجلف الكبير علي الخريطة باللون البني.
- () 6 إنشاء حي الاسمرات في محافظة القاهرة ونقل بعض الافراد للسكن به من خدمات التطور العمراني.

السؤال الثاني: ضع خطأ تحت الإجابة الصحيحة فيما بين القوسين:

- 1) عند كتابتك لبحث عن أهمية موقع مصر تستخدم أحد المصادر الثانوية مثل:
(المخاطبات الرسمية - البرديات - الوثائق الرسمية - الكتب)
- 2) قام مجموعة من الشباب بحفر بئر عميق لاستخراج المياه من باطن الأرض للزراعة ؛ تتوقع هذا البئر يوجد في.....
- (وادي النيل - الصحراء الغربية - الصحراء الشرقية - الدلتا)
- 3) افتتاح حديقة للملاهي في محافظتك يشير إلى اهتمام الدولة بتقديم الخدمات.....
- (الترفيهية - البيئية - الصحية - التعليمية)
- 4) ظاهرة تضاريسية في محافظة جنوب سيناء يزيد ارتفاعها عن 1000 متر هي.....
- (جبل - تل - منخفض - هضبة)
- 5) تتعرض التربة للتلوث في البيئة الزراعية نتيجة.....
- (حرق قش الأرز- دخان السيارات - إلقاء النفايات البلاستيكية - الإسراف في استخدام الأسمدة الكيميائية)
- 6) توفير منزل ملائم للطفل يشير لحق الطفل في.....
- (التعليم - السكن - الترفيه - اللعب)

السؤال الثالث : أجب عن الأسئلة التالية :-

- 1- يشير رقم (1) على الخريطة إلى البيئة
- ٢- يشير رقم (٢) على الخريطة إلى البيئة
- 3- يشير رقم (3) على الخريطة إلى البيئة
- 4- يشير رقم (4) على الخريطة إلى بحيرة صناعية هي بحيرة
- 5- حدد سببا واحدا لأهمية رسم وردة البوصلة على الخريطة.

6- لقد درست بعض الشخصيات المؤثرة في المجتمع المصري مثل الكاتب جمال حمدان، والملحن سيد درويش اختر إحدى هذه الشخصيات وحدد من وجهة نظرك الإنجاز الذي قدمته للمجتمع المصري ، وما الذي أعجبك في هذه الشخصية.

" مع أطيب التمنيات بالنجاح والتوفيق "

